



ტესტი გეოგრაფიაში

2014

ინსტრუქცია

თქვენ წინაშეა საგამოცდო ტესტის ბუკლეტი, რუკა და ამ ტესტის პასუხების ფურცელი.

გაითვალისწინეთ, გასწორდება მხოლოდ პასუხების ფურცელი!

პასუხების ფურცლის გაკეცვა დაუშვებელია!

ყურადღებით გაეცანით ტესტის ყოველი დავალების ინსტრუქციას, კარგად გაიაზრეთ თითოეული დავალების მოთხოვნა და შემდეგ დაიწყეთ მუშაობა. პასუხები ჩაწერეთ პასუხების ფურცლის შესაბამის ადგილზე. პასუხების ფურცელში არ შეიძლება გაკეთდეს ბედმეტი სახის მინაწერები (სახელი, გვარი ან რაიმე სახის სხვა აღნიშვნა). ნაშრომები, რომელშიც იქნება მსგავსი აღნიშვნები, არ გასწორდება!

ტესტზე მუშაობისას შეგიძლიათ გამოიყენოთ მოცემული საქართველოსა და მსოფლიოს ფიზიკური რუკები.

წერეთ გარკვევით და იმყოფინეთ პასუხებისათვის განკუთვნილი ადგილები.

ყოველ შეკითხვას გაეცით კონკრეტული და ამომწურავი პასუხი.

შავი სამუშაოსათვის შეგიძლიათ გამოიყენოთ ტექსტში არსებული ცარიელი ადგილები.

ტესტის მაქსიმალური ქულაა - 70

ტესტზე სამუშაოდ გეძლევათ 3 საათი.

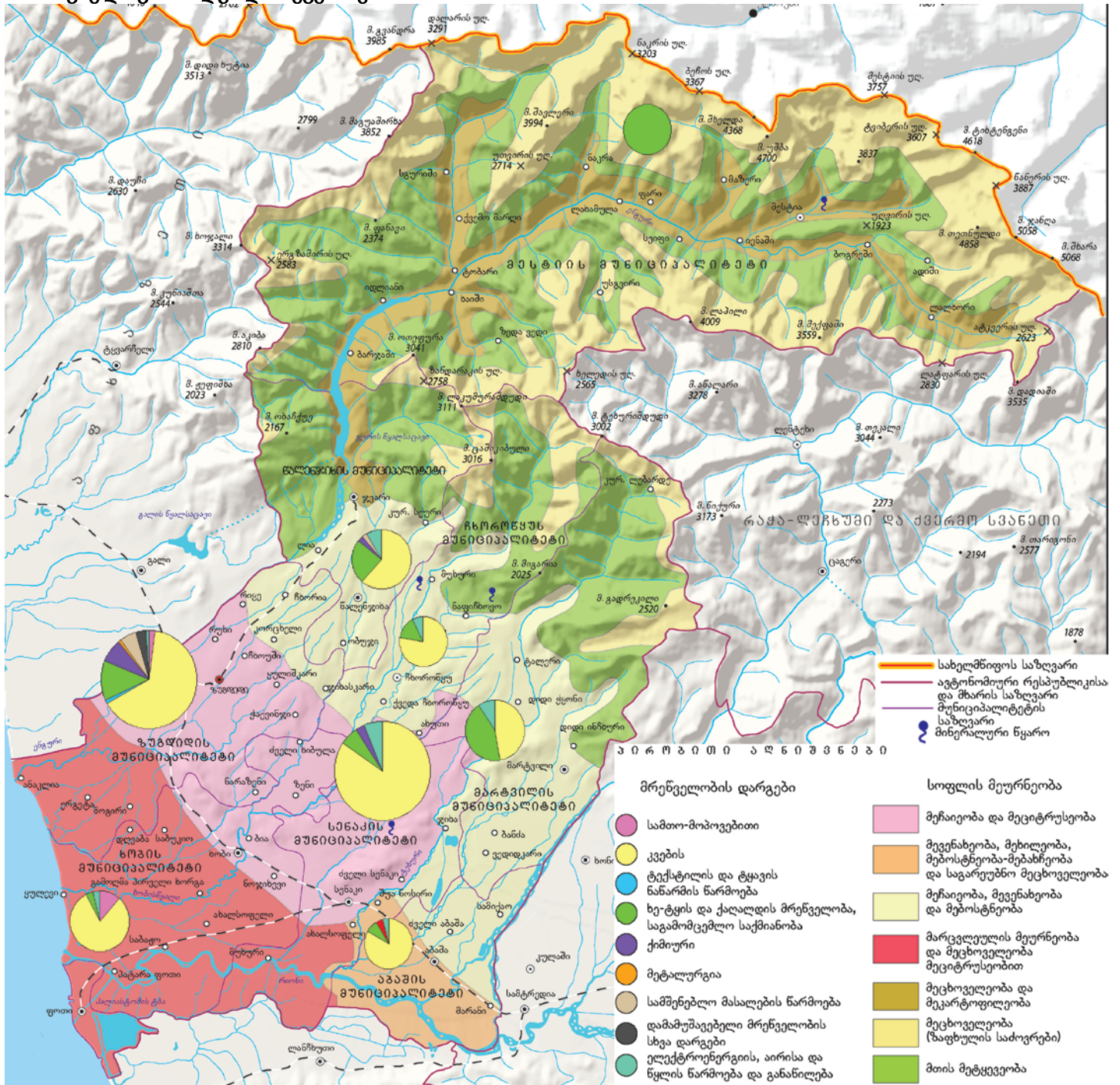
გისურვებთ წარმატებას!

• კითხვა არჩევითი პასუხებით

ინსტრუქცია

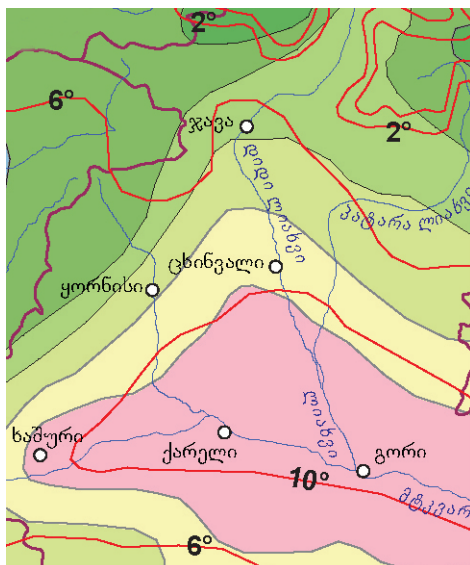
თითოეულ კითხვაზე მოცემულია ოთხი პასუხი. მათგან მხოლოდ ერთია სწორი. თქვენ მიერ არჩეული პასუხის სწორად მონიშვნის ერთადერთი გზა პასუხების ფურცლის სათანადო უჯრაში X ნიშნის დასმაა. თითოეული დავალება ფასდება 1 ქულით.

1. რუკიდან გამომდინარე, რომელი მუნიციპალიტეტის სოფლის მეურნეობაში უჭირავს უფრო მნიშვნელოვანი ადგილი მევენახეობას?

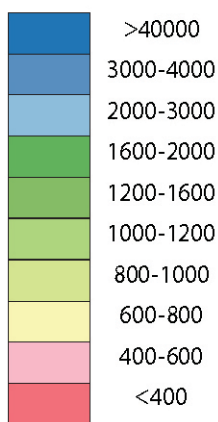


- ა. მარტვილის
- ბ. ხობის
- გ. აბაშის
- დ. ზუგდიდის

2. რომელ ჩამონათვალშია დალაგებული დასახლებული პუნქტები ატმოსფერული ნალექების რაოდენობის ზრდის მიხედვით?

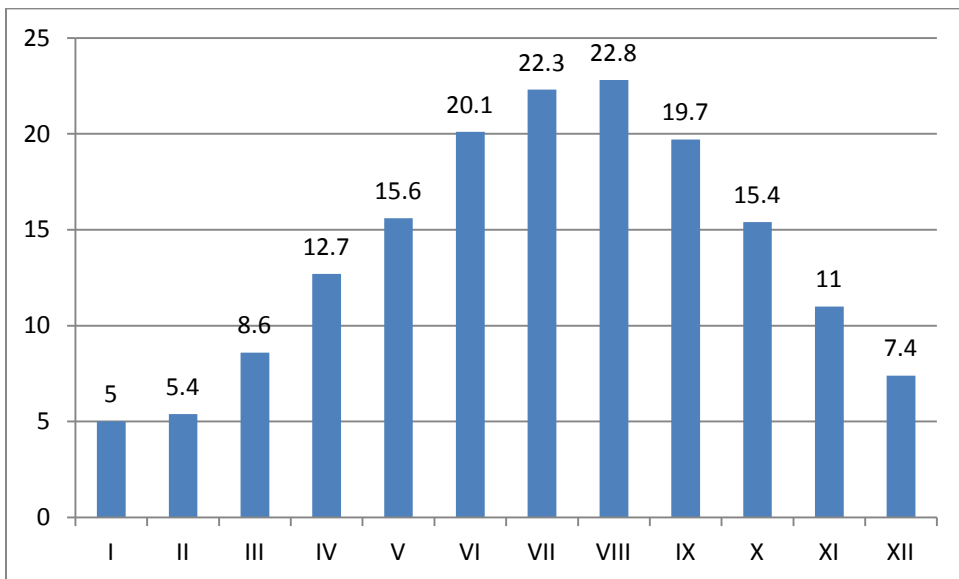


აიროზიტი ალნიმენტი
ატმოსფერული ნალექების რაოდენობა მილიმეტრებში



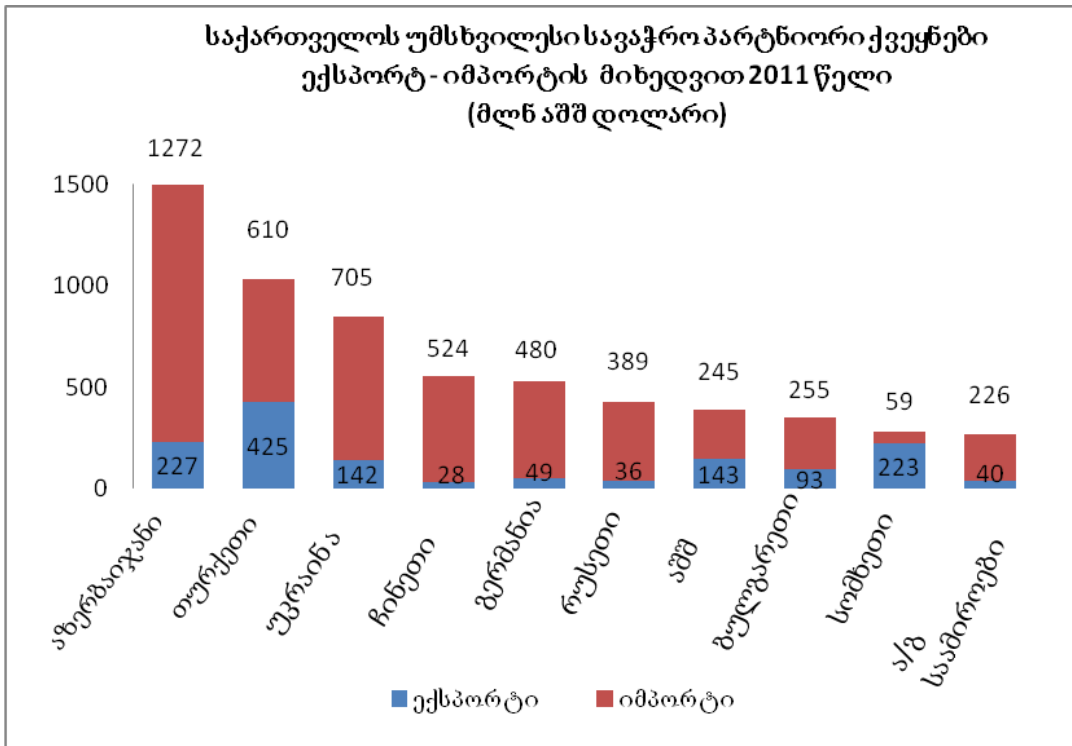
- ა. ჯავა, ყორნისი, ცხინვალი, ქარელი
- ბ. ქარელი, ცხინვალი, ყორნისი, ჯავა
- გ. ქარელი, ყორნისი, ცხინვალი, ჯავა
- დ. ჯავა, ცხინვალი, ყორნისი, ქარელი

3. რომელი ქალაქის ჰაერის საშუალო თვიური ტემპერატურის წლიურ მსვლელობას ასახავს გრაფიკი?



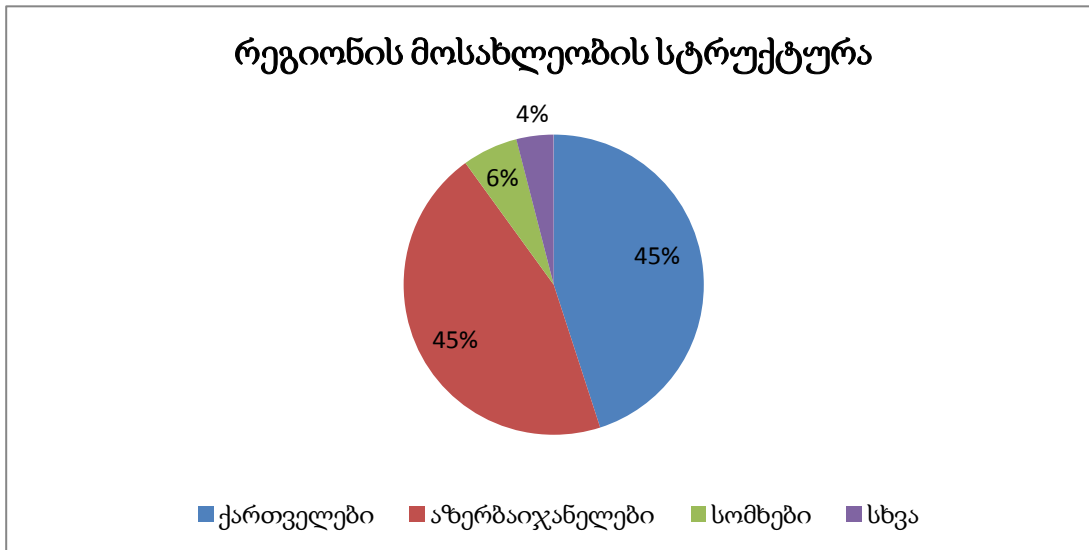
- ა. მესტიის
- ბ. ახალციხის
- გ. სიღნაღის
- დ. სოხუმის

4. რას უდრის საქართველოს სავაჭრო ბალანსი¹ სომხეთთან?



- ა. 59 მლნ. აშშ დოლარს
- ბ. 164 მლნ. აშშ დოლარს
- გ. 223 მლნ. აშშ დოლარს
- დ. 282 მლნ. აშშ დოლარს

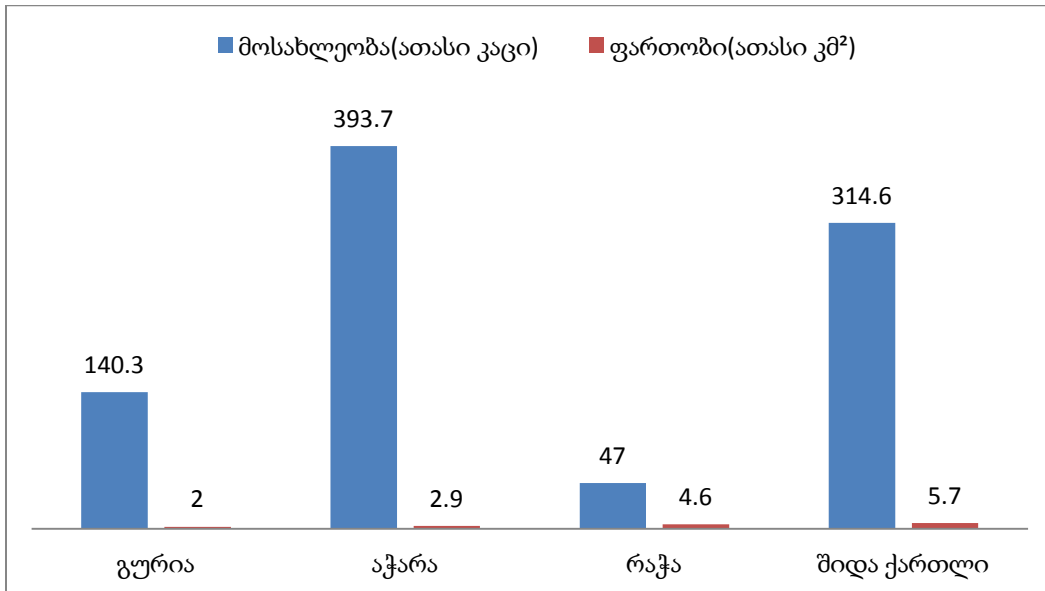
5. საქართველოს რომელი რეგიონის მოსახლეობის ეროვნული სტრუქტურაა მოცემული წრიულ დიაგრამაზე?



- ა. სამცხე-ჯავახეთის
- ბ. შიდა ქართლის
- გ. ქვემო ქართლის
- დ. კახეთის


¹ სხვაობა ქვეყანაში შემოტანილ და გატანილ პროდუქციის ღირებულებას შორის.

6. რომელი რეგიონია უფრო მჭიდროდ დასახლებული?



- ა. გურია
- ბ. აჭარა
- გ. რაჭა
- დ. შიდა ქართლი

7. რომელ რიცხვით მასშტაბს შეესაბამება მოცემული ხაზოვანი მასშტაბი?



- ა. 1 : 500 000
- ბ. 1 : 150 000
- გ. 1 : 50 000
- დ. 1 : 500

8. ცხრილში მოცემული სტატისტიკური ინფორმაციიდან გამომდინარე, რომელი მტკიცებულებაა მართებული?

მოსახლეობის ზრდის ტემპი	-0.327%
შობადობა	10.75‰
მოკვდაობა	10.05‰
მიგრაცია	-3.96‰

- ა. ადგილი აქვს მოსახლეობის ზრდას
- ბ. ადგილი აქვს მოსახლეობის ბუნებრივ კლებას
- გ. ემიგრანტების რაოდენობა აღემატება იმიგრანტების რაოდენობას
- დ. მოსახლეობის რაოდენობა არ იცვლება

9. ცხრილიდან გამომდინარე რომელი დასახლებული პუნქტი შეესაბამება სასოფლო ტიპის დასახლებას?

დასახლებული პუნქტი	მოსახლეობა	მოსახლეობის დასაქმების სტრუქტურა			
		მრეწველობა	მომსახურების სფერო	სოფლის მეურნეობა	დაუსაქმებელი მოსახლეობა
A	100 000	30%	40%	—	30%
B	8 000	20%	15%	45%	20%
C	3 000	25%	30%	25%	20%
D	2 500	30%	10%	35%	25%

- ა. A
- ბ. B
- გ. C
- დ. D

10. რელიეფის რომელი ტიპია დაკავშირებული თანამედროვე მყინვარების მოქმედებასთან?

- ა. გლაციალური
- ბ. კარსტული
- გ. ეროზიული
- დ. დენუდაციური

11. რომელი ოროგრაფიული ერთეული მიეკუთვნება კავკასიონს?

- ა. რაჭის ქვაბული
- ბ. იმერეთის მაღლობი
- გ. ივრის ზეგანი
- დ. ახალქალაქის პლატო

12. ჩამოთვლილთაგან რომელი ტბა მდებარეობს ზღვის დონიდან ყველაზე მაღლა?

- ა. ფარავანი
- ბ. პალიასტომი
- გ. ჯანდარი
- დ. კუმისი

13. რომელი მდინარის მყარ ნატანს აქვს ბათუმის პლაჟის ფორმირებაში დიდი მნიშვნელობა?

- ა. რიონის
- ბ. ჭოროხის
- გ. კინტრიშის
- დ. ხობისწყლის

14. რომელი მდინარე წარმოიქმნება მდ. თუშეთის ალაზნისა და მდ. პირიქითის ალაზნის შეერთებით?

- ა. ანდის ყოისუ
- ბ. ასა
- გ. ავარიის ყოისუ
- დ. არლუნი

15. რომელია სახნავი მიწებით უფრო ღარიბი რეგიონი?

- ა. კახეთი
- ბ. ქვემო ქართლი
- გ. სამცხე-ჯავახეთი
- დ. აჭარა

16. რა ითვლება კახეთის რეგიონის სოფლის მეურნეობისათვის მთავარ საფრთხედ?

- ა. ზვავი
- ბ. სეტყვა
- გ. ღვარცოფი
- დ. მეწყერი

17. ძირითადად რომელი რეგიონისთვისაა დამახასიათებელი წითელმიწები?

- ა. აჭარის
- ბ. ქვემო ქართლის
- გ. რაჭა-ლეჩხუმისა და ქვემო სვანეთის
- დ. კახეთის

18. რომელი საერთაშორისო ორგანიზაციის მიზანია: ევროპაში ადამიანის უფლებების და თავისუფლების დაცვა და ჰუმანიტარულ საკითხებში თანამშრომლობა?

- ა. ევროპის საბჭოს
- ბ. შავი ზღვის ქვეყნების ეკონომიკური თანამეგობრობის
- გ. ევროპის კავშირის
- დ. ჩრდილოეთ ატლანტიკური ხელშეკრულების ორგანიზაციის

19. რომელ რეგიონზე მოდის საქართველოს ფეროშენადნობთა ექსპორტის უფრო მეტი წილი?

- ა. იმერეთის
- ბ. შიდა ქართლის
- გ. სამცხე-ჯავახეთის
- დ. ქვემო ქართლის

20. რომელი რეგიონი გამოირჩევა ფერადი ლითონების მოპოვებით?

- ა. იმერეთი
- ბ. შიდა ქართლი
- გ. სამცხე-ჯავახეთი
- დ. ქვემო ქართლი

21. რომელი სასარგებლო წიაღისეულის ღია წესით მოპოვებამ გამოიწვია რამდენიმე ასეული ჰექტარი ნაყოფიერი სასოფლო-სამეურნეო სავარგულის დეგრადაცია?

- ა. ჭიათურის მანგანუმის
- ბ. ახალციხის მურა ნახშირის
- გ. ცანის დარიშხანის
- დ. შქმერის კირქვის

22. რომელ რეგიონში მდებარეობს კურორტი ბახმარო?

- ა. გურიაში
- ბ. აჭარაში
- გ. მცხეთა-მთიანეთში
- დ. შიდა ქართლში

23. რომელი ხე-მცენარე ჭარბობს საქართველოს ტყეებში?

- ა. წიფელი
- ბ. მუხა
- გ. წაბლი
- დ. ევკალიპტი

24. რომელ ქედზეა ფართოდ გავრცელებული რელიეფის კარსტული ტიპი?

- ა. სვანეთის
- ბ. გომბორის
- გ. ბზიფის
- დ. ლიხის

• შესაბამისობის დადგენა

ინსტრუქცია

დაადგინეთ შესაბამისობა დავალებაში მოცემულ ორ ჩამონათვალს შორის. გაითვალისწინეთ, რომ შესაძლებელია პასუხის გამეორება. პასუხები ჩაწერეთ პასუხების ფურცელში მოცემულ ცხრილში, თითოეულ ასოს ქვემოთ მიუწერეთ შესაბამისი ციფრი. დავალების მაქსიმალური ქულაა 2.

25. დაადგინეთ შესაბამისობა (გაითვალისწინეთ რომ, შესაძლებელია პასუხის გამეორება):

	მწვერვალი		ქედი
ა	მ. ტინოვროსო	1	კავკასიონის მთავარი წყალგამყოფი
ბ	მ. ხიმსა	2	ბზიფის
გ	მ. დიკლოსმთა	3	სვანეთის
დ	მ. ლაჰილი	4	პირიქითას
ე	მ. უშბა		
ვ	მ. თებულოსმთა		
ზ	მ. შხარა		

ა	ბ	გ	დ	ე	ვ	ზ

26. დაადგინეთ შესაბამისობა (გაითვალისწინეთ რომ, შესაძლებელია პასუხის გამეორება):

	სასარგებლო წიაღისეული		რეგიონი
ა	ტარიზანას ნავთობი	1	კახეთი
ბ	ჭიათურის მანგანუმი	2	ქვემო ქართლი
გ	ბაკურიანის ანდეზიტი	3	იმერეთი
დ	ახტალის სამკურნალო ტალახი	4	სამცხე-ჯავახეთი
ე	სალიეთის მარმარილო		
ვ	მადნეულის სპილენძ-ტყვია-თუთია		
ზ	ახალციხის მურა ნახშირი		





ა	ბ	გ	დ	ე	ვ	ზ




27. დაადგინეთ შესაბამისობა (გაითვალისწინეთ, რომ პასუხის გამეორება შესაძლებელია):

	შენაკადი		მდინარე
ა	დებედა	1	ენგური
ბ	თეძამი	2	რიონი
გ	ნენსკრა	3	მტკვარი
დ	ტეხური	4	ხრამი
ე	ფარავანი		
ვ	ხანისწყალი		
ზ	მაშავერა		

ა	ბ	გ	დ	ე	ვ	ზ

28. დაადგინეთ შესაბამისობა (გაითვალისწინეთ, რომ პასუხის გამეორება შესაძლებელია):

	ფოტო		ადგილმდებარეობა
ა		1	თბილისი
ბ		2	ფოთი
გ		3	გარდაბანი
დ		4	ჯვარი

ე		5	ბათუმი
ვ			
ზ			

ა	ბ	გ	დ	ე	ვ	ზ

29. დაადგინეთ შესაბამისობა (გაითვალისწინეთ, რომ პასუხის გამეორება შესაძლებელია):

	სახელმწიფო		მმართველობის ფორმა
ა	ვატიკანი	1	კონსტიტუციური მონარქია
ბ	ქუვეითი	2	აბსოლუტური მონარქია
გ	ბრუნეი	3	თეოკრატიული მონარქია
დ	იაპონია	4	რესპუბლიკა
ე	ირლანდია		
ვ	შვედეთი		
ზ	ირანი		

ა	ბ	გ	დ	ე	ვ	ზ

30. დაადგინეთ შესაბამისობა (გაითვალისწინეთ, რომ პასუხის გამეორება შესაძლებელია):

	გეოგრაფიული ობიექტი		კონტინენტი
ა	ჩანჩქერი ანხელი	1	აფრიკა
ბ	ჩანჩქერი ვიქტორია	2	სამხრეთი ამერიკა
გ	ჩანჩქერი ნიაგარა	3	ჩრდილოეთი ამერიკა
დ	ჩადის ტბა	4	ანტარქტიდა
ე	ვულკანი ერეზუსი		
ვ	გვიანის ზეგანი		
ზ	მისისიპის დაბლობი		

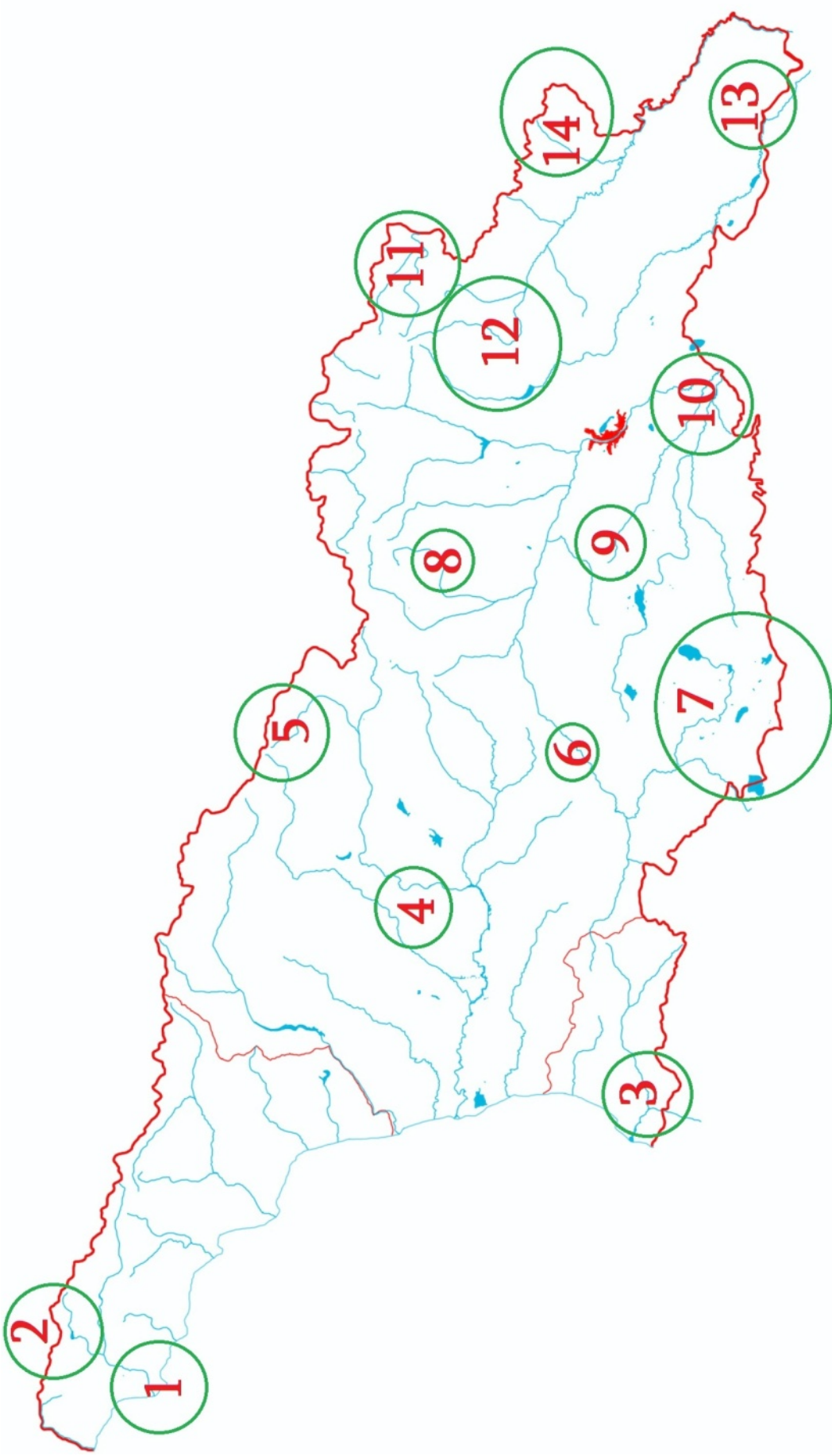
ა	ბ	გ	დ	ე	ვ	ზ

- რუკის ანალიზი

ინსტრუქცია

ყურადღებით შეისწავლეთ დავალებებში მოცემული რუკები (კონტურული, ფიზიკური და ტოპოგრაფიული) და უპასუხეთ კითხვებს. პასუხები ჩაწერეთ პასუხების ფურცელში გამოყოფილ შესაბამის ადგილას. ქულათა რაოდენობა განისაზღვრება კონკრეტული დავალების მიხედვით.

31. (10) რუკის გამოყენებით უპასუხეთ კითხვებს:



- 31.1. რომელ წრეში მდებარეობს ტერიტორია, სადაც დაცულია არიდული ნათელი ტყის კორომები?
- 31.2. რომელ წრეში მდებარეობს ტერიტორია, სადაც დაცულია კარსტული მღვიმეების კომპლექსი?
- 31.3. რომელ წრეში მდებარეობს კავკასიის ყველაზე ნალექიანი ადგილი?
- 31.4. რომელ წრეში მდებარეობს კავკასიაში შექმნილი პირველი დაცული ტერიტორია?
- 31.5. რომელ წრეში ექცევა ტერიტორია, სადაც საქართველო, სომხეთი და აზერბაიჯანი ერთმანეთს ესაზღვრება?
- 31.6. რომელ წრეში მდებარეობს საქართველოს უღრმესი ტბა?
- 31.7. რომელ წრეში მდებარეობს მდ. რიონის სათავე?
- 31.8. რომელ წრეში მდებარეობს პირიქითას ქედი?
- 31.9. რომელ წრეში მდებარეობს სალამოს ტბა?
- 31.10. რომელ წრეში მდებარეობს მდინარეების ალაზნისა და იორის წყალგამყოფი ქედი?

	წრის ნომერი
31.1.	
31.2.	
31.3.	
31.4.	
31.5.	
31.6.	
31.7.	
31.8.	
31.9.	
31.10.	

32. (6) ტოპოგრაფიული რუკის გამოყენებით უპასუხეთ კითხვებს:

32.1. რომელი დასახლებული პუნქტი მდებარეობს სოფ. ბარეთიდან სამხრეთ-დასავლეთით?

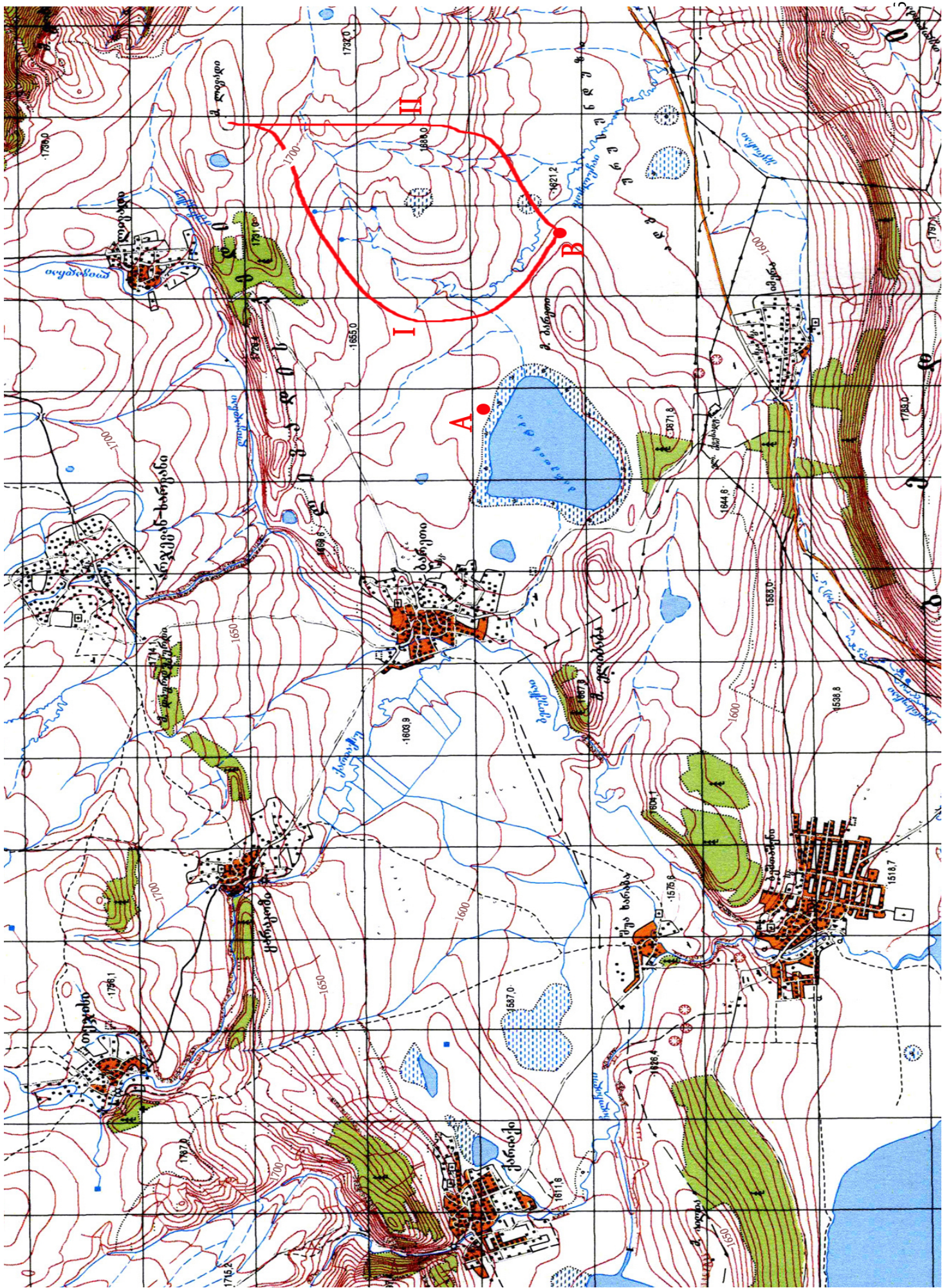
- ა. ლივადი
- ბ. იმერა
- გ. ბეშთაშენი
- დ. ყარაკომი

32.2. ზღვის დონიდან დაახლოებით რამდენი მეტრია მ. ბარეთის სიმაღლე?

- ა. 1520
- ბ. 1620
- გ. 1655
- დ. 1668

32.3. (1) გამოჩნდება თუ არა A წერტილიდან სოფ. იმერა? პასუხი დაასაბუთეთ.

32.4. (3) ტურისტებმა B წერტილიდან მ. ლივადის დასალაშქრად I მარშრუტი აირჩიეს. შეადარეთ I და II მარშრუტი. მოიყვანეთ სამი მიზეზი, რის გამოც დაწუნებული იქნა II მარშრუტი.



- ინფორმაციის ტრანსფორმაცია

ინსტრუქცია

ყურადღებით შეისწავლეთ დავალებაში მოცემული ინფორმაცია და უპასუხეთ კითხვებს. პასუხები ჩაწერეთ პასუხების ფურცელში გამოყოფილ შესაბამის ადგილას. ქულათა რაოდენობა განისაზღვრება კონკრეტული დავალების მიხედვით.

33. (9) მოცემული სტატისტიკური ინფორმაციის საფუძველზე უპასუხეთ კითხვებს.

საქართველოს, სომხეთისა და აზერბაიჯანის სტატისტიკური მონაცემები:

მშპ-ს სტრუქტურა

	მშპ (მილიარდი აშშ დოლარი)	მშპ-ს პროცენტული განაწილება ეკონომიკის სექტორების მიხედვით		
		სოფლის მეურნეობა	მრეწველობა	მომსახურება
საქართველო	26.52	8.3%	23.7%	68%
სომხეთი	18.95	19.2%	40.8%	40%
აზერბაიჯანი	98.16	5.8%	59.5%	34.7%

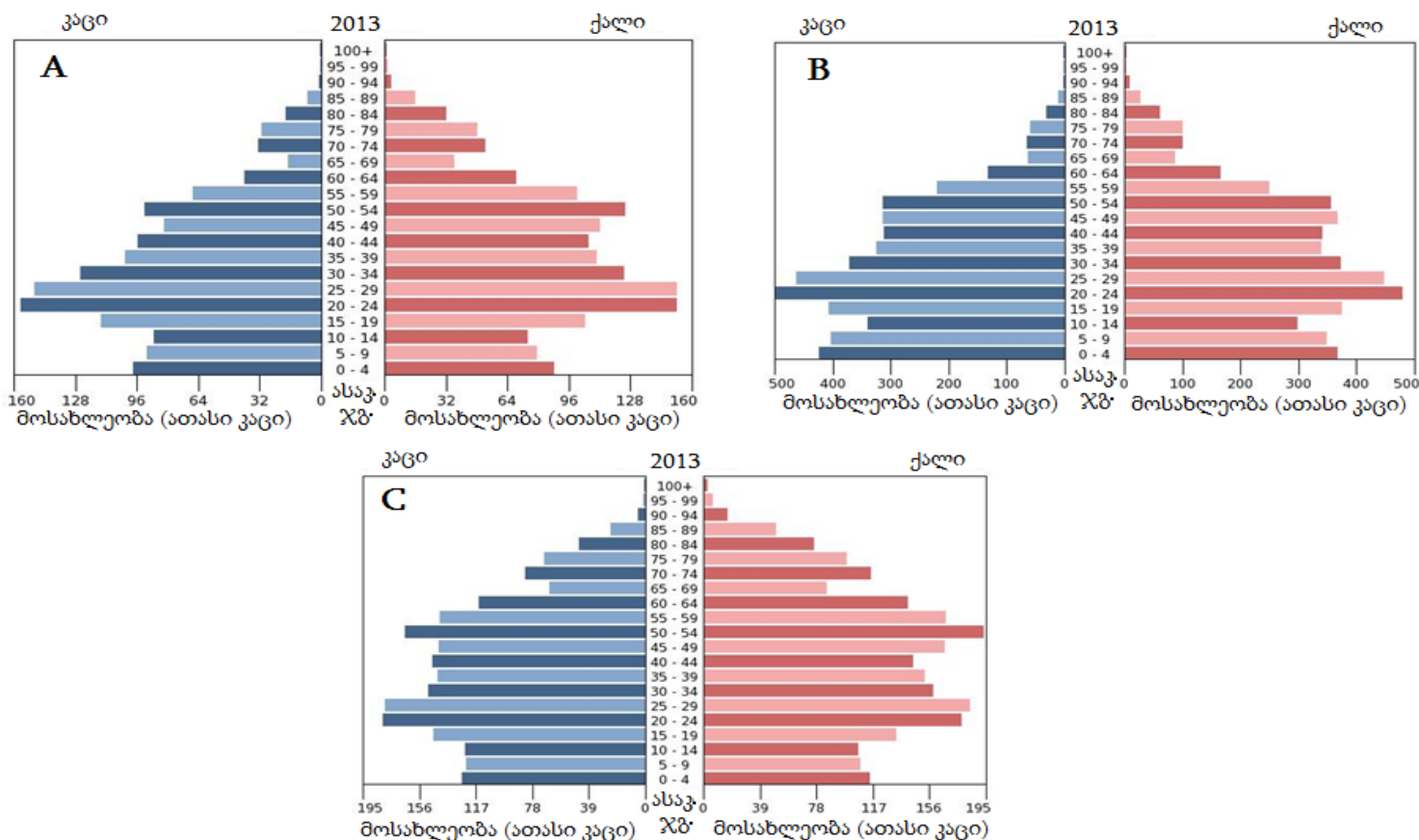
დასაქმების სტრუქტურა

	დასაქმებულთა რაოდენობა (მილიონი კაცი)	დასაქმებულთა პროცენტული განაწილება ეკონომიკის სექტორების მიხედვით		
		სოფლის მეურნეობა	მრეწველობა	მომსახურება
საქართველო	1.96	55.6%	8.9%	35.5%
სომხეთი	1.19	44.2%	16.8%	39%
აზერბაიჯანი	6.21	38.3%	12.1%	49.6%

სხვა მაჩვენებლები

	ბიუჯეტის მაჩვენებლები (მილიარდი აშშ დოლარი)		ექსპორტ-იმპორტის მაჩვენებლები (მილიარდი აშშ დოლარი)		მოსახლეობა (მილიონი კაცი)	ქალაქის მოსახლეობა (მილიონი კაცი)
	შემოსავალი	ხარჯი	ექსპორტი	იმპორტი		
საქართველო	4.1	4.8	3.32	6.62	4.56	2.41
სომხეთი	2.2	2.53	1.5	3.27	2.97	1.9
აზერბაიჯანი	23.25	25.55	30.58	10.78	9.59	4.98

33.1. (2) რომელი დემოგრაფიული (სქესობრივ-ასაკობრივი) პირამიდა შეესაბამება აზერბაიჯანის და რომელი სომხეთის მოსახლეობის სტრუქტურას?



33.2. (1) ახსენით, რომელ მაჩვენებელზე დაყრდნობით შეგვიძლია დავადგინოთ, რომ საქართველოს ეკონომიკაში სოფლის მეურნეობას უფრო ნაკლები როლი აქვს, ვიდრე სომხეთის ეკონომიკაში?

33.3. (1) ახსენით, რომელ ორ მაჩვენებელზე დაყრდნობით შეგვიძლია დავადგინოთ, რომ სომხეთის ეკონომიკისთვის სოფლის მეურნეობას უფრო მეტი ეფექტი აქვს, ვიდრე საქართველოს ეკონომიკისთვის?

33.4. (1) მოცემული სახელმწიფოები დაალაგეთ ერთ სულ მოსახლეზე მშპ-ს მოცულობის ზრდის მიხედვით (პატარიდან დიდისკენ).

33.5. (2) რომელ სახელმწიფოშია დასაქმებულთა ყველაზე მაღალი ხვედრითი წილი და რას უტოლდება ეს მაჩვენებელი (აუცილებლად აჩვენეთ გამოთვლის პროცესი)?

33.6. (2) რომელ სახელმწიფოშია ურბანიზაციის უფრო მაღალი დონე და რას უტოლდება ეს მაჩვენებელი (აუცილებლად აჩვენეთ გამოთვლის პროცესი)?

• ტექსტის ანალიზი

ინსტრუქცია

ყურადღებით შეისწავლეთ დავალებაში მოცემული ტექსტი და უპასუხეთ კითხვებს. პასუხები ჩაწერეთ პასუხების ფურცელში გამოყოფილ შესაბამის ადგილას. ქულათა რაოდენობა განისაზღვრება კონკრეტული დავალების მიხედვით.

34. (9) გაეცანით ტექსტს და უპასუხეთ კითხვებს:

საქართველოს შავიზღვისპირა ზონის კლიმატი ნოტიო სუბტროპიკულია. მისი სანაპირო ზოლი შავი ზღვის ყველაზე წყნარ რეგიონად ითვლება. მიუხედავად ამისა, დაახლოებით 20 წელიწადში ერთხელ მეორდება გრიგალი (ძლიერი ქარი), რომლის სიჩქარე 47 მ/წმ აღემატება. ეს ქარები ძირითადად ზღვიდან უბერავს და იწვევს ძლიერ ღელვას. გრიგალის დროს წყლის დონემ ნაპირთან შესაძლებელია 0,8 მ-ით აიწიოს, მდინარეების შესართავებში კი — 2-3-ჯერ მეტი იყოს. შავი ზღვის დონის აწევა საქართველოს ტერიტორიაზე განსაკუთრებით საშიშ მასშტაბებს მდ. რიონის შესართავის მიდამოებში აღწევს.

შავი ზღვის სანაპირო ზონაში კარგად არის განვითარებული მეციტრუსეობა. გასული საუკუნის 30-იანი წლებიდან განსაკუთრებით დიდ მოცულობას მიაღწია ჩაის წარმოებამ, რომელიც საქართველოს სოფლის მეურნეობის სპეციალიზაციის დარგად იქცა. ჩაის წარმოება თითქმის მთლიანად აკმაყოფილებდა ყოფილი საბჭოთა კავშირის მოთხოვნას, ხოლო პროდუქციის ნაწილი ექსპორტზეც გადიოდა. დღევანდელი მდგომარეობით ქვეყანაში ციტრუსების წარმოება დაახლოებით 8-ჯერ, ხოლო ჩაის – 20-ჯერ შემცირდა.

მიუხედავად იმისა, რომ მსოფლიოს სხვა ქვეყნებში ეკონომიკურად უფრო მომგებიანია ფორთოხლისა და ლიმონის წარმოება, საქართველოში ციტრუსოვან კულტურათა შორის ჭარბობს მანდარინი. იგი გამოირჩევა შედარებით მაღალი ყინვაგამძლეობით.

მეცნიერები ვარაუდობენ, რომ 2050 წლისათვის შავი ზღვის სანაპირო ზონაში მოსალოდნელია ჰაერის საშ. ტემპერატურის მატება 1,2⁰-ით და ნალექების 8-10%-ით შემცირება. მათი აზრით, აღნიშნული ცვლილებები მნიშვნელოვან გავლენას მოახდენს საქართველოს შავიზღვისპირეთის სოციალურ და ეკონომიკურ მდგომარეობაზე.

34.1. (1) ახსენით, როგორ იმოქმედებს საქართველოს ამ რეგიონის ტურისტულ-რეკრეაციულ სექტორზე კლიმატური პარამეტრების მოსალოდნელი ცვლილებები?

34.2. (1) ახსენით, რა არის საქართველოში მანდარინთან შედარებით, ფორთოხლისა და ლიმონის წარმოების მცირე მაჩვენებლის მიზეზი?

34.3. (1) რა გავლენა შეიძლება იქონიოს ტემპერატურის მატებამ ციტრუსების წარმოებაზე აღნიშნულ რეგიონში? პასუხი დაასაბუთეთ.

34.4. (1) ახსენით, რატომ იწვევს ძლიერი გრიგალის დროს მდინარის შესართავებში წყლის დონე უფრო მაღლა, ვიდრე სანაპიროზე?

- 34.5. (1) ახსენით, სავარაუდოდ რა გავლენას მოახდენს ეკოლოგიაზე შავი ზღვისპირეთში კლიმატის მოსალოდნელი ცვლილებები?
- 34.6. (1) ტექსტიდან გამომდინარე, შავი ზღვის დონის აწევის შემთხვევაში უფრო მეტად რომელი ქალაქი დაზარალდება?
- 34.7. (1) ძირითადად რამ განაპირობა ციტრუსებისა და ჩაის წარმოების შემცირება საქართველოში?
- 34.8. (2) რომელ რეგიონებს მოიცავს ტექსტში აღწერილი ზონა?

დავადლების #	გეოგრაფია აბიტურიენტები პასუხები I ვარიანტი მაქსიმალური ქულა -70	ქულა														
1	ბ	1														
2	ბ	1														
3	დ	1														
4	ბ	1														
5	ბ	1														
6	ბ	1														
7	ბ	1														
8	ბ	1														
9	ბ	1														
10	ა	1														
11	ა	1														
12	ა	1														
13	ბ	1														
14	ა	1														
15	დ	1														
16	ბ	1														
17	ა	1														
18	ა	1														
19	ა	1														
20	დ	1														
21	ა	1														
22	ა	1														
23	ა	1														
24	ბ	1														
25	<p><u>შეფასების სქემა:</u></p> <ul style="list-style-type: none"> • 0, 1 ან 2 შესაბამისობის დადგენა - 0 ქულა; • 3, 4 ან 5 შესაბამისობის დადგენა - 1 ქულა; • 6 ან 7 შესაბამისობის დადგენა - 2 ქულა. <table border="1" data-bbox="483 1654 922 1732"> <thead> <tr> <th>ა.</th> <th>ბ.</th> <th>გ.</th> <th>დ.</th> <th>ე.</th> <th>ვ.</th> <th>ზ.</th> </tr> </thead> <tbody> <tr> <td>1</td> <td>2</td> <td>4</td> <td>3</td> <td>1</td> <td>4</td> <td>1</td> </tr> </tbody> </table>	ა.	ბ.	გ.	დ.	ე.	ვ.	ზ.	1	2	4	3	1	4	1	2
ა.	ბ.	გ.	დ.	ე.	ვ.	ზ.										
1	2	4	3	1	4	1										
26	<table border="1" data-bbox="483 1774 922 1848"> <thead> <tr> <th>ა.</th> <th>ბ.</th> <th>გ.</th> <th>დ.</th> <th>ე.</th> <th>ვ.</th> <th>ზ.</th> </tr> </thead> <tbody> <tr> <td>1</td> <td>3</td> <td>4</td> <td>1</td> <td>3</td> <td>2</td> <td>4</td> </tr> </tbody> </table>	ა.	ბ.	გ.	დ.	ე.	ვ.	ზ.	1	3	4	1	3	2	4	2
ა.	ბ.	გ.	დ.	ე.	ვ.	ზ.										
1	3	4	1	3	2	4										

დავალების #	გეოგრაფია აბიტურიენტები პასუხები I ვარიანტი მაქსიმალური ქულა -70	ქულა																						
27	<table border="1" data-bbox="483 285 922 365"> <tr> <td>ა.</td> <td>ბ.</td> <td>გ.</td> <td>დ.</td> <td>ე.</td> <td>ვ.</td> <td>ზ.</td> </tr> <tr> <td>4</td> <td>3</td> <td>1</td> <td>2</td> <td>3</td> <td>2</td> <td>4</td> </tr> </table>	ა.	ბ.	გ.	დ.	ე.	ვ.	ზ.	4	3	1	2	3	2	4	2								
ა.	ბ.	გ.	დ.	ე.	ვ.	ზ.																		
4	3	1	2	3	2	4																		
28	<table border="1" data-bbox="483 403 922 483"> <tr> <td>ა.</td> <td>ბ.</td> <td>გ.</td> <td>დ.</td> <td>ე.</td> <td>ვ.</td> <td>ზ.</td> </tr> <tr> <td>3</td> <td>1</td> <td>4</td> <td>2</td> <td>1</td> <td>5</td> <td>5</td> </tr> </table>	ა.	ბ.	გ.	დ.	ე.	ვ.	ზ.	3	1	4	2	1	5	5	2								
ა.	ბ.	გ.	დ.	ე.	ვ.	ზ.																		
3	1	4	2	1	5	5																		
29	<table border="1" data-bbox="483 550 922 630"> <tr> <td>ა.</td> <td>ბ.</td> <td>გ.</td> <td>დ.</td> <td>ე.</td> <td>ვ.</td> <td>ზ.</td> </tr> <tr> <td>3</td> <td>2</td> <td>2</td> <td>1</td> <td>4</td> <td>1</td> <td>4</td> </tr> </table>	ა.	ბ.	გ.	დ.	ე.	ვ.	ზ.	3	2	2	1	4	1	4	2								
ა.	ბ.	გ.	დ.	ე.	ვ.	ზ.																		
3	2	2	1	4	1	4																		
30	<table border="1" data-bbox="483 667 922 747"> <tr> <td>ა.</td> <td>ბ.</td> <td>გ.</td> <td>დ.</td> <td>ე.</td> <td>ვ.</td> <td>ზ.</td> </tr> <tr> <td>2</td> <td>1</td> <td>3</td> <td>1</td> <td>4</td> <td>2</td> <td>3</td> </tr> </table>	ა.	ბ.	გ.	დ.	ე.	ვ.	ზ.	2	1	3	1	4	2	3	2								
ა.	ბ.	გ.	დ.	ე.	ვ.	ზ.																		
2	1	3	1	4	2	3																		
31	<p data-bbox="240 768 467 802"><u>შეფასების სქემა:</u></p> <ul data-bbox="276 810 1136 919" style="list-style-type: none"> • არასწორი პასუხი ფასდება 0 ქულით; • სწორი პასუხი არასწორ პასუხთან ერთად ფასდება 0 ქულით; • თითოეული სწორი პასუხი ფასდება 1 ქულით. <table border="1" data-bbox="256 940 626 1591"> <thead> <tr> <th>#</th> <th>წრის ნომერი</th> </tr> </thead> <tbody> <tr> <td>31.1.</td> <td>13</td> </tr> <tr> <td>31.2.</td> <td>4</td> </tr> <tr> <td>31.3.</td> <td>3</td> </tr> <tr> <td>31.4.</td> <td>14</td> </tr> <tr> <td>31.5.</td> <td>10</td> </tr> <tr> <td>31.6.</td> <td>2</td> </tr> <tr> <td>31.7.</td> <td>5</td> </tr> <tr> <td>31.8.</td> <td>11</td> </tr> <tr> <td>31.9.</td> <td>7</td> </tr> <tr> <td>31.10.</td> <td>12</td> </tr> </tbody> </table>	#	წრის ნომერი	31.1.	13	31.2.	4	31.3.	3	31.4.	14	31.5.	10	31.6.	2	31.7.	5	31.8.	11	31.9.	7	31.10.	12	10
#	წრის ნომერი																							
31.1.	13																							
31.2.	4																							
31.3.	3																							
31.4.	14																							
31.5.	10																							
31.6.	2																							
31.7.	5																							
31.8.	11																							
31.9.	7																							
31.10.	12																							
32.1	ბ	1																						
32.2	დ	1																						

დავალების #	გეოგრაფია აბიტურიენტები პასუხები I ვარიანტი მაქსიმალური ქულა -70	ქულა
32.3	<p><u>შეფასების სქემა:</u></p> <ul style="list-style-type: none"> • არასწორი პასუხი ან სწორი პასუხი დასაბუთების გარეშე - 0 ქულა; • სწორად დასაბუთებული პასუხი - 1 ქულა. 	1
32.4	<p><u>შეფასების სქემა:</u></p> <ul style="list-style-type: none"> • არაადეკვატური პასუხი - 0 ქულა; • ერთი სწორად დასახელებული მიზეზი - 1 ქულა. <p>დავალების ჯამური ქულაა - 3.</p>	3
33.1.	<p><u>შეფასების სქემა:</u></p> <ul style="list-style-type: none"> • არასწორად დასახელებული სახელმწიფო - 0 ქულა; • ერთი სწორად დასახელებული სახელმწიფო - 1 ქულა; • ორი სწორად დასახელებული სახელმწიფო - 2 ქულა. <p><u>სწორი პასუხის ნიმუში:</u></p> <ul style="list-style-type: none"> • A დემოგრაფიული პირამიდა შეესაბამება სომხეთს - 1 ქულა; • B დემოგრაფიული პირამიდა შეესაბამება აზერბაიჯანს - 1 ქულა. 	2
33.2.	<p><u>შეფასების სქემა:</u></p> <ul style="list-style-type: none"> • არაადეკვატური ახსნა - 0 ქულა; • მართებული ახსნა - 1 ქულა. 	1
33.3.	<p><u>შეფასების სქემა:</u></p> <ul style="list-style-type: none"> • არაადეკვატური ახსნა - 0 ქულა; • მართებული ახსნა - 1 ქულა. 	1
33.4.	<p><u>შეფასების სქემა:</u></p> <ul style="list-style-type: none"> • არასწორად ნაჩვენები თანმიმდევრობა - 0 ქულა; • სწორად ნაჩვენები თანმიმდევრობა - 1 ქულა. <p><u>სწორი პასუხის ნიმუში:</u> საქართველო < სომხეთი < აზერბაიჯანი.</p>	1
33.5.	<p><u>შეფასების სქემა:</u></p> <ul style="list-style-type: none"> • არასწორად დასახელებული სახელმწიფო - 0 ქულა; • მხოლოდ სწორად დასახელებული სახელმწიფო - 1 ქულა; • სწორად დასახელებული სახელმწიფო და სწორად ნაჩვენები გამოთვლის პროცესი - 2 ქულა. <p><u>სწორი პასუხის ნიმუში:</u></p> <ul style="list-style-type: none"> • აზერბაიჯანში - 1 ქულა; • $6,21 * 100 / 9,59 = 64,7\%$ - 1 ქულა. 	2

დავალების #	გეოგრაფია აბიტურიენტები პასუხები I ვარიანტი მაქსიმალური ქულა -70	ქულა
33.6.	<p><u>შეფასების სქემა:</u></p> <ul style="list-style-type: none"> • არასწორად დასახელებული სახელმწიფო - 0 ქულა; • მხოლოდ სწორად დასახელებული სახელმწიფო - 1 ქულა; • სწორად დასახელებული სახელმწიფო და სწორად ნაჩვენები გამოთვლის პროცესი - 2 ქულა. <p><u>სწორი პასუხის ნიმუში:</u></p> <ul style="list-style-type: none"> • სომხეთში - 1 ქულა; • $1.9 \cdot 100 / 2.97 = 63.9\%$ - 1 ქულა. 	2
34.1.	<p><u>შეფასების სქემა:</u></p> <ul style="list-style-type: none"> • არაადეკვატური ახსნა - 0 ქულა; • ადეკვატური ახსნა - 1 ქულა. 	1
34.2.	<p><u>შეფასების სქემა:</u></p> <ul style="list-style-type: none"> • არაადეკვატური ახსნა - 0 ქულა; • ადეკვატური ახსნა - 1 ქულა. 	1
34.3.	<p><u>შეფასების სქემა:</u></p> <ul style="list-style-type: none"> • არაადეკვატური დასაბუთება - 0 ქულა; • ადეკვატური დასაბუთება - 1 ქულა. 	1
34.4.	<p><u>შეფასების სქემა:</u></p> <ul style="list-style-type: none"> • არაადეკვატური ახსნა - 0 ქულა; • ადეკვატური ახსნა, - 1 ქულა. 	1
34.5.	<p><u>შეფასების სქემა:</u></p> <ul style="list-style-type: none"> • არაადეკვატური ახსნა - 0 ქულა; • ადეკვატური ახსნა - 1 ქულა. 	1
34.6	<p><u>შეფასების სქემა:</u></p> <ul style="list-style-type: none"> • არასწორად დასახელებული ქალაქი - 0 ქულა; • სწორად დასახელებული ქალაქი - 1 ქულა; <p><u>სწორი პასუხის ნიმუში:</u> ქალაქი ფოთი</p>	1
34.7.	<p><u>შეფასების სქემა:</u></p> <ul style="list-style-type: none"> • არასწორად დასახელებული მიზეზი - 0 ქულა; • სწორად დასახელებული მიზეზი - 1 ქულა. 	1

დავადლება #	<p style="text-align: center;">გეოგრაფია აბიტურიენტები პასუხები I ვარიანტი მაქსიმალური ქულა -70</p>	ქულა
34.8.	<p><u>შეფასების სქემა:</u></p> <ul style="list-style-type: none"> • პასუხი, რომელიც შეიცავს არასწორად დასახელებულ თუნდაც ერთ რეგიონს - 0 ქულა; • პასუხი, რომელიც შეიცავს სწორად დასახელებულ მხოლოდ ორ ან სამ რეგიონს და არ შეიცავს არასწორ პასუხს - 1 ქულა; • პასუხი, რომელიც შეიცავს სწორად დასახელებულ ოთხ რეგიონს - 2 ქულა. 	2