



Тест по Географии

2014

Инструкция

Перед вами буклет экзаменационного теста, карта и лист ответов этого теста.

Учите, исправляться будет лишь лист ответов!

Складывание листа ответов недопустимо!

Внимательно ознакомьтесь с инструкцией к каждому заданию теста, хорошо обдумайте требование каждого задания и затем приступите к работе. Ответы запишите в соответствующем месте листа ответов. В листе ответов запрещается делать лишнего рода надписи (имя, фамилию или какого-либо другого рода пометки). Работы, содержащие подобного рода пометки, исправляться не будут!

Во время работы над тестом можете использовать данные физические карты Грузии и мира.

Пишите разборчиво и старайтесь не выходить за рамки отведенных для ответов мест.

На каждый вопрос дайте конкретный и исчерпывающий ответ.

Для черновой работы можете использовать имеющиеся в тесте свободные места.

Максимальный балл теста - 70

Для работы Вам отводится 3 часа.

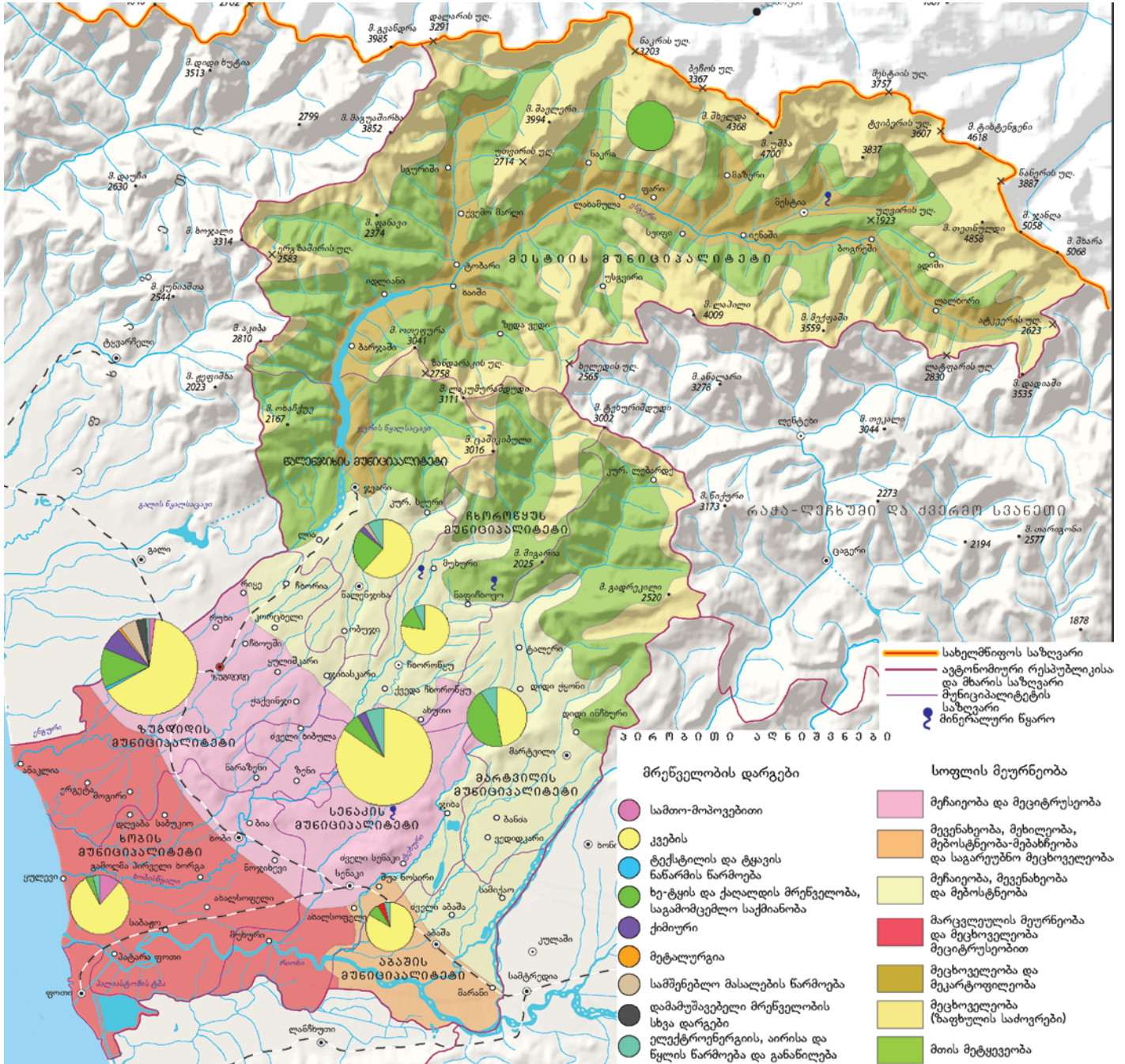
Желаем успеха!

• **Вопрос с выборочным ответом**

Инструкция

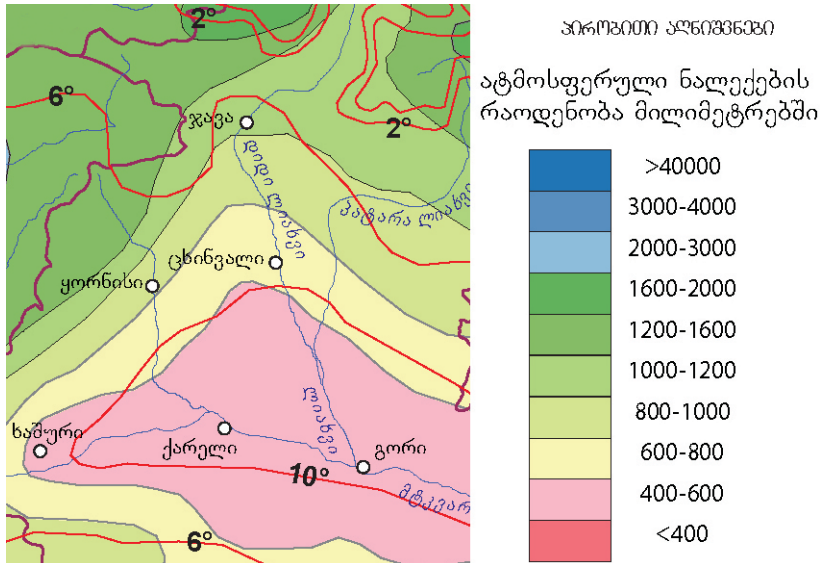
На каждый вопрос даны четыре варианта ответа. Из них лишь один правильный. Единственный путь правильно отметить выбранный ответ - это поставить знак X в соответствующую клетку в листе ответов. Каждое задание оценивается в 1 балл.

1. Исходя из карты, в каком из муниципалитетов виноградарство занимает наиболее важное место в сельском хозяйстве?



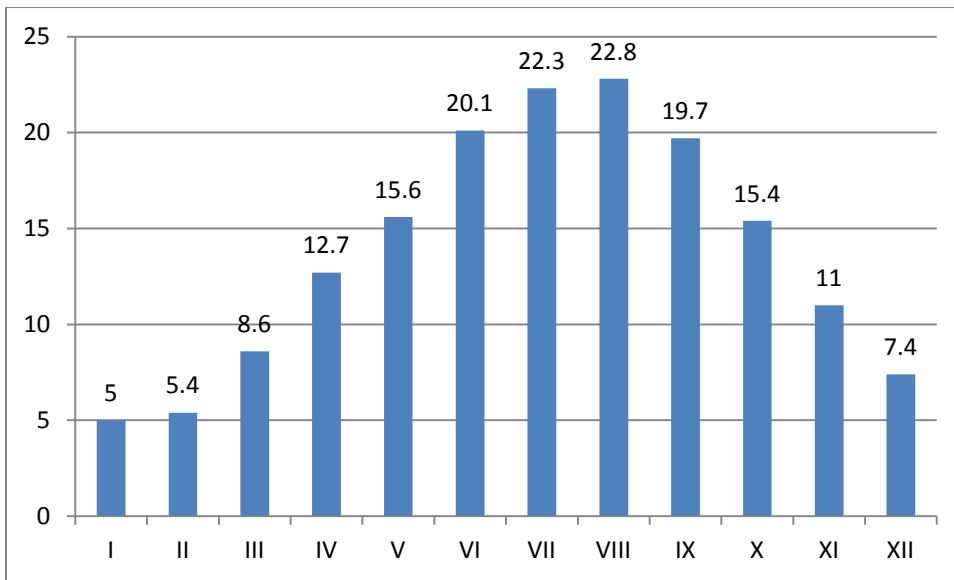
- ა. მარტვილსკომ
- ბ. ხობსკომ
- ვ. აბაშსკომ
- გ. ზუგდიდსკომ

2. В каком из перечисленных вариантов ответа даны населённые пункты по возрастанию количества выпадения атмосферных осадков?



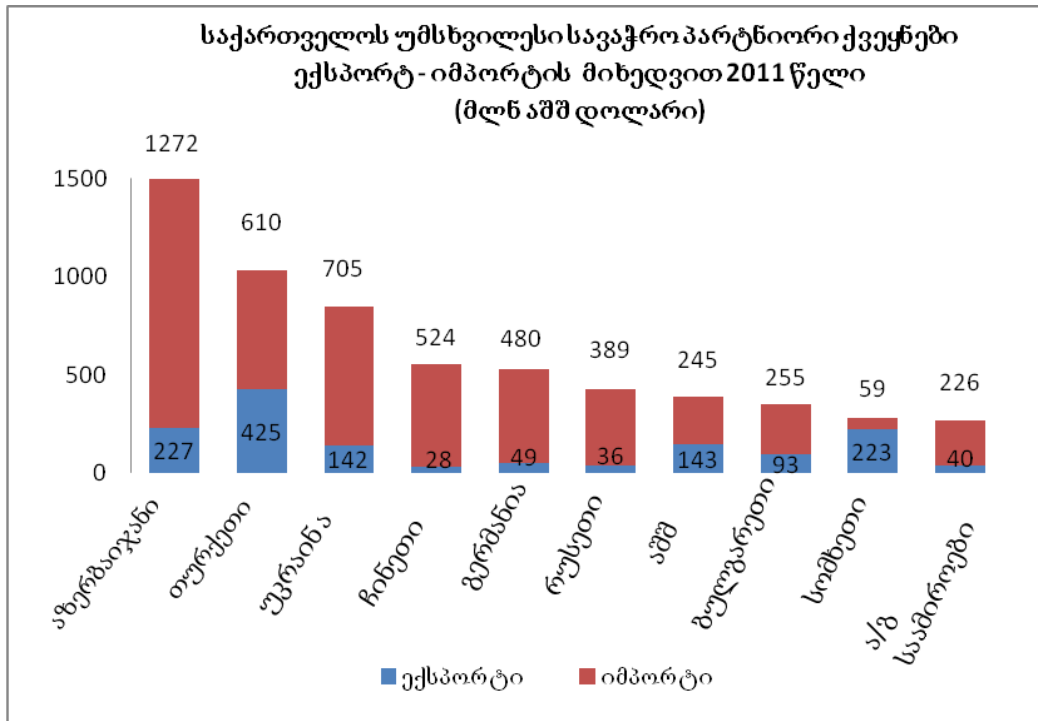
- ა. Джава, Корниси, Цхинвали, Карели
- ბ. Карели, Цхинвали, Корниси, Джава
- ვ. Карели, Корниси, Цхинвали, Джава
- გ. Джава, Цхинвали, Корნისი, Карელი

3. Годовой ход среднемесячной температуры воздуха какого города изображен на графике?



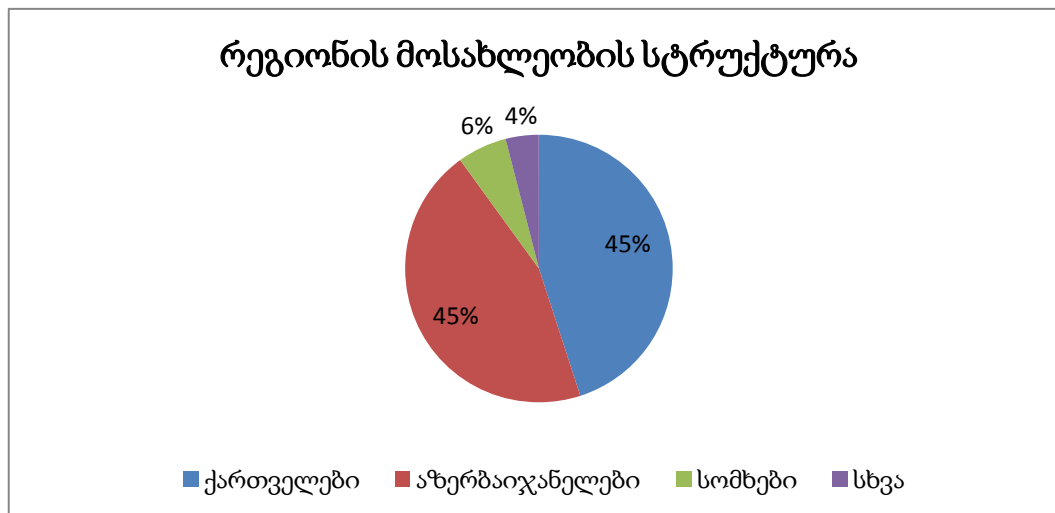
- ა. Местия
- ბ. Ахалцихе
- ვ. Сигნაგი
- გ. Сухуми

4. Чему равен торговый баланс¹ Грузии с Арменией?



- ა. 59 მლნ. დოლარს შტა
- ბ. 164 მლნ. დოლარს შტა
- ვ. 223 მლნ. დოლარს შტა
- გ. 282 მლნ. დოლარს შტა

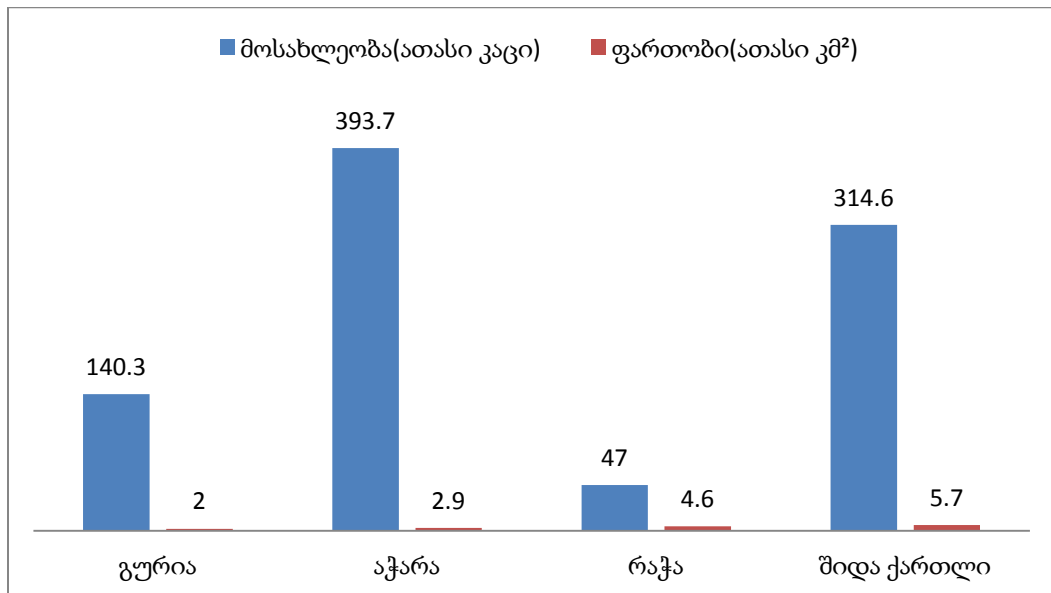
5. Национальная структура населения какого региона Грузии изображена на диаграмме?



- ა. სამცხე-ჯავახეთი
- ბ. შიდა კარტლი
- ვ. კვემო კარტლი
- გ. კახეთი


¹ Разница между стоимостью ввозимой и вывозимой продукции.

6. Какой регион более густонаселённый?



- ა. Гурия
- ბ. Аджара
- ვ. Рача
- გ. შიდა კარტი

7. Какой численный масштаб соответствует данному линейному масштабу?



- ა. 1 : 500 000
- ბ. 1 : 150 000
- ვ. 1 : 50 000
- გ. 1 : 500

8. Исходя из данной в таблице статистической информации, какое утверждение верно?

Темп роста населения	-0.327%
Рождаемость	10.75‰
Смертность	10.05‰
Миграция	-3.96‰

- ა. Имеет место рост населения.
- ბ. Имеет место естественная убыль населения.
- ვ. Количество эмигрантов превышает количество иммигрантов.
- გ. Количество населения не меняется.

9. Исходя из таблицы, какой населённый пункт является населённым пунктом сельского типа?

Населённый пункт	Население	Структура занятости населения			
		промышленность	Сфера обслуживания	Сельское хозяйство	Незанятое население
A	100 000	30%	40%	—	30%
B	8 000	20%	15%	45%	20%
C	3 000	25%	30%	25%	20%
D	2 500	30%	10%	35%	25%

- а. А
- б. В
- в. С
- г. D

10. Рельеф какого типа связан с действиями современных ледников?

- а. Гляциальный
- б. Карстовый
- в. Эрозийный
- г. Денудационный

11. Какую из орографических единиц включают Кавказские горы?

- а. Рачинскую котловину
- б. Имеретинскую возвышенность
- в. Иорское плоскогорье
- г. Ахалкалакское плато

12. Какое из перечисленных озёр находится выше всех над уровнем моря?

- а. Паравани
- б. Палиастоми
- в. Джандари
- г. Кумыси

13. Твёрдый нанос какой реки имеет большое значение для формирования батумского пляжа?

- а. Риони
- б. Чорохи
- в. Кинтриши
- г. Хобисцхали

14. Какая река образуется слиянием рек Тушетинская Алазани и Пирикитская Алазани?

- а. Андийское Койсу
- б. Асса
- в. Аварийское Койсу
- г. Аргун

15. Какой регион наиболее беден пахотными землями?

- а. Кахети
- б. Квемо Картли
- в. Самцхе-Джавахети
- г. Аджара

16. Что считается особо опасным для сельского хозяйства Кахетинского региона?

- а. Лавина
- б. Град
- в. Сель
- г. Оползень

17. Для какого региона Грузии, в основном, характерен краснозём?

- а. Аджары
- б. Квемо Картли
- в. Рача-Лечхуми и Земо Сванети
- г. Кахети

18. Целью какой международной организации является защита прав и свобод человека и сотрудничество в гуманитарных вопросах в Европе?

- а. Европейского совета
- б. Организации Черноморского экономического сотрудничества
- в. Евросоюза
- г. Организации Североатлантического договора

19. На какой регион Грузии приходится большая часть экспорта ферросплавов?

- а. Имерети
- б. Шида Картли
- в. Самцхе-Джавахети
- г. Квемо Картли

20. Какой регион выделяется добычей цветных металлов?

- а. Имерети
- б. Шида Картли
- в. Самцхе-Джавахети
- г. Квемо Картли

21. Добыча какого полезного ископаемого вызвала деградацию нескольких сотен гектаров плодородных сельскохозяйственных угодий?

- а. Чиатурского марганца
- б. Ахалцихского бурого угля
- в. Цанского мышьяка
- г. Шкмерского известняка

22. В каком регионе расположен курорт Бахмаро?

- а. Гурии
- б. Аджаре
- в. Мцхета-Мтианети
- г. Шида Картли

23. Какое дерево преобладает в лесах Грузии?

- а. Бук
- б. Дуб
- в. Каштан
- г. Эвкалипт

24. На каком хребте широко распространён карстовый тип рельефа ?

- а. Сванетском
- б. Гомборском
- в. Бзипском
- г. Лихском

- **Установление соответствия**

Инструкция

Установите соответствие между двумя данными в задании перечнями. Учтите, что возможно повторение ответа. Ответы запишите в данной в листе ответов таблице. Под каждой буквой припишите соответствующую цифру. Максимальный балл задания - 2.

25. Установите соответствие. (Учтите, что возможно повторение ответа.)

	Вершина		Хребет
а	г. Тиновросо	1	Главный Кавказский водораздельный
б	г. Химса	2	Бзипский
в	г. Диклосмта	3	Сванетский
г	г. Лахили	4	Пирикитский
д	г. Ушба		
е	г. Тебулосмта		
ж	г. Шхара		

а	б	в	г	д	е	ж

26. Установите соответствие. (Учтите, что возможно повторение ответа.)

	Полезное ископаемое		Регион
а	Нефть Тарибана	1	Кахети
б	Чиатурский марганец	2	Квемо Каргли
в	Бакурианский андезит	3	Имерети
г	Лечебная грязь Ахталы	4	Самцхе-Джавахети
д	Сальетский мрамор		
е	Маднеульская медь, свинец, цинк		
ж	Ахалцихский бурый уголь		





а	б	в	г	д	е	ж




27. Установите соответствие. (Учтите, что возможно повторение ответа.)

	Приток		Река
а	Дебеда	1	Ингури
б	Тедзами	2	Риони
в	Ненскра	3	Кура
г	Техури	4	Храми
д	Паравани		
е	Ханисцкали		
ж	Машавера		

а	б	в	г	д	е	ж

28. Установите соответствие. (Учтите, что возможно повторение ответа.)

	Фото		Местоположение
а		1	Тбилиси
б		2	Поти
в		3	Гардабани
г		4	Джвари

д		5	Батуми
е			
ж			

а	б	в	г	д	е	ж

29. Установите соответствие. (Учтите, что возможно повторение ответа.)

	Государство		Форма правления
а	Ватикан	1	Конституционная монархия
б	Кувейт	2	Абсолютная монархия
в	Бруней	3	Теократическая монархия
г	Япония	4	Республика
д	Ирландия		
е	Швеция		
ж	Иран		

а	б	в	г	д	е	ж

30. Установите соответствие. (Учтите, что возможно повторение ответа.)

	Географический объект		Континент
а	Водопад Анхель	1	Африка
б	Водопад Виктория	2	Южная Америка
в	Ниагарский водопад	3	Северная Америка
г	Озеро Чад	4	Антарктида
д	Вулкан Эребус		
е	Гвианское плоскогорье		
ж	Миссисипская низменность		

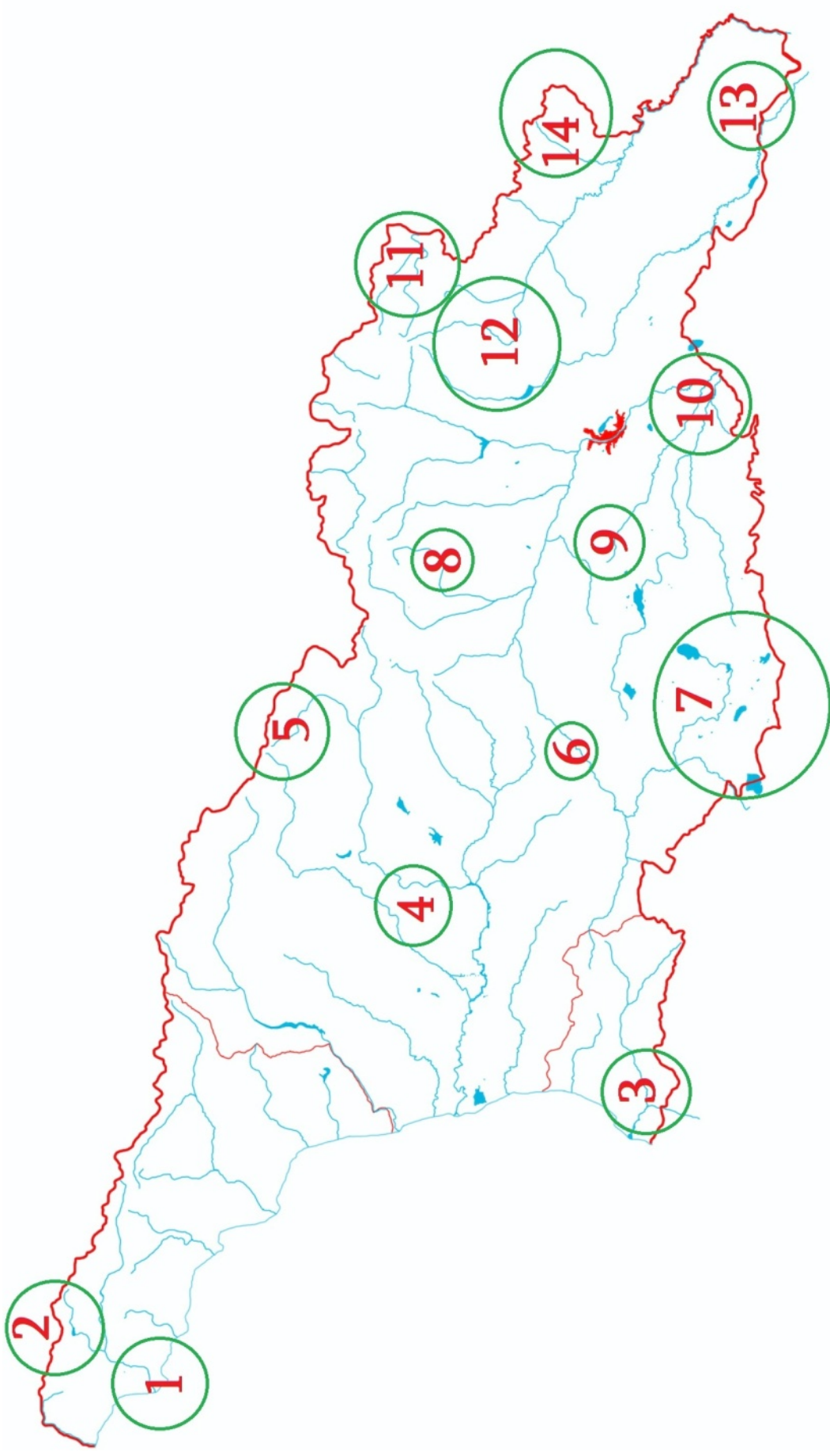
а	б	в	г	д	е	ж

- *Анализ карты*

Инструкция

Внимательно изучите данные в задании карты (контурную, физическую и топографическую) и ответьте на вопросы. Ответы запишите в соответствующем месте листа ответов. Количество баллов определяется по конкретному заданию .

31. (10) Используя карту, ответьте на вопросы:



- 31.1 В каком круге находится территория, где охраняются участки засушливого редколесья?
- 31.2. В каком круге находится территория, где охраняется комплекс карстовых пещер?
- 31.3. В каком круге находится место, где самый высокий уровень выпадения осадков на Кавказе?
- 31.4. В каком круге находится первая созданная на Кавказе охраняемая территория?
- 31.5. В каком круге находится территория, где Грузия, Армения и Азербайджан граничат друг с другом?
- 31.6. В каком круге находится самое глубокое озеро Грузии?
- 31.7. В каком круге находится исток реки Риони?
- 31.8. В каком круге находится Пирикитский хребет?
- 31.9. В каком круге находится озеро Сагамо?
- 31.10. В каком круге находится водораздельный хребет рек Алазани и Иори?

	Номер круга
31.1.	
31.2.	
31.3.	
31.4.	
31.5.	
31.6.	
31.7.	
31.8.	
31.9.	
31.10.	

32. (6) Используя топографическую карту, ответьте на поставленные вопросы.

32.1. Какой населённый пункт находится юго-западнее деревни Барети?

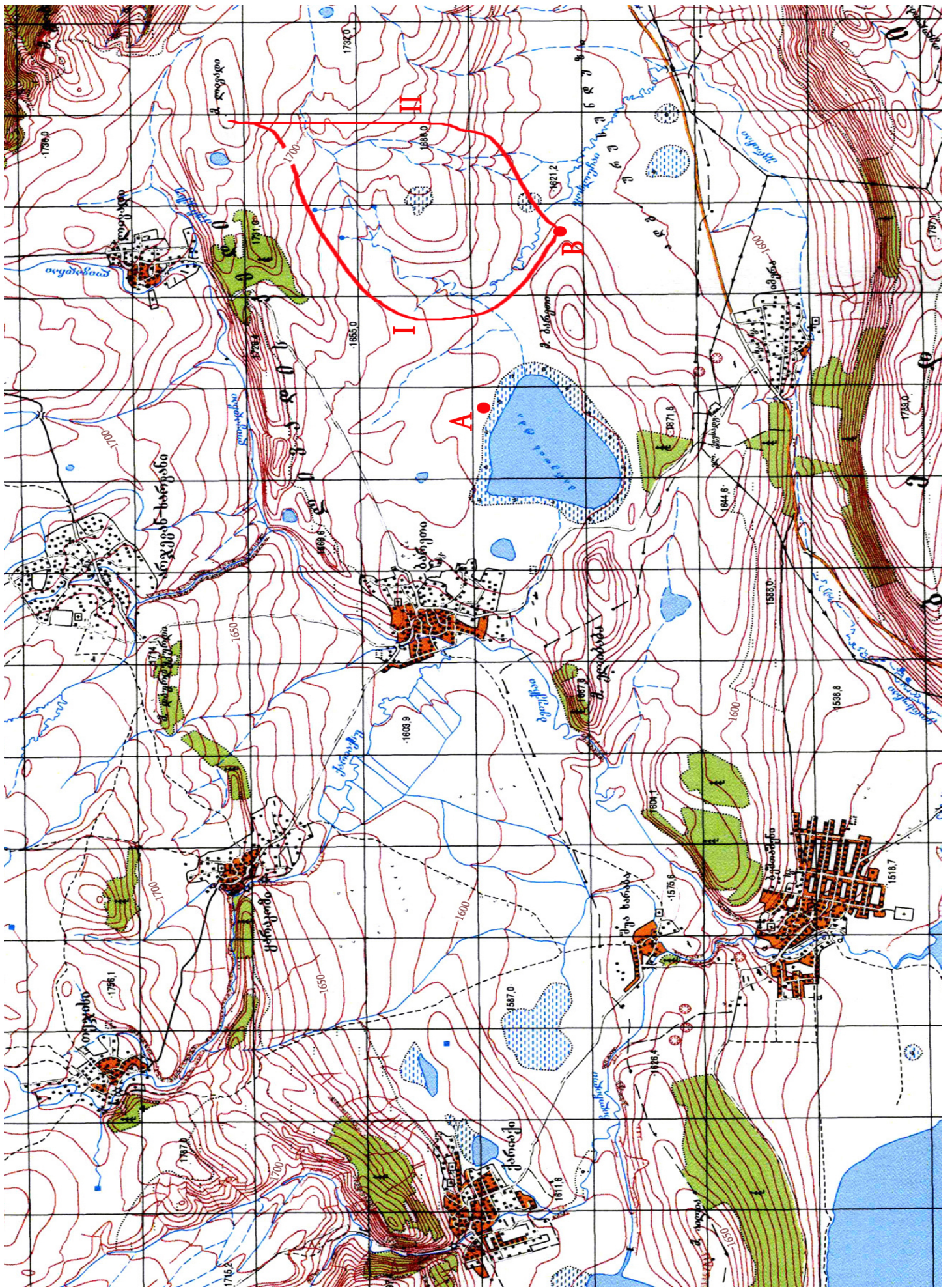
- а. Ливади
- б. Имера
- в. Бешташени
- г. Каракоми

32.2. Приблизительно сколько метров высота г. Барети над уровнем моря?

- а. 1520
- б. 1620
- в. 1655
- г. 1668

32.3. (1) Видна ли из точки А деревня Имера? Ответ обоснуйте.

32.4. (3) Для похода из точки В до г. Ливада туристы выбрали I маршрут. Сравните I и II маршруты. Приведите три причины, по которым был забракован II маршрут.



- **Трансформация информации**

Инструкция

Внимательно изучите приведённую ниже информацию и ответьте на вопросы. Ответы запишите в соответствующих местах, выделенных в листе ответов. Количество баллов определяется по каждому конкретному заданию.

33. (9) На основании данной статистической информации, ответьте на вопросы.

Статистические данные Грузии, Армении и Азербайджана.

Структура ВВП

	ВВП (миллиард долларов США)	Процентное распределение ВВП по секторам экономики		
		Сельское хозяйство	Промышленность	Сфера обслуживания
Грузия	26.52	8.3%	23.7%	68%
Армения	18.95	19.2%	40.8%	40%
Азербайджан	98.16	5.8%	59.5%	34.7%

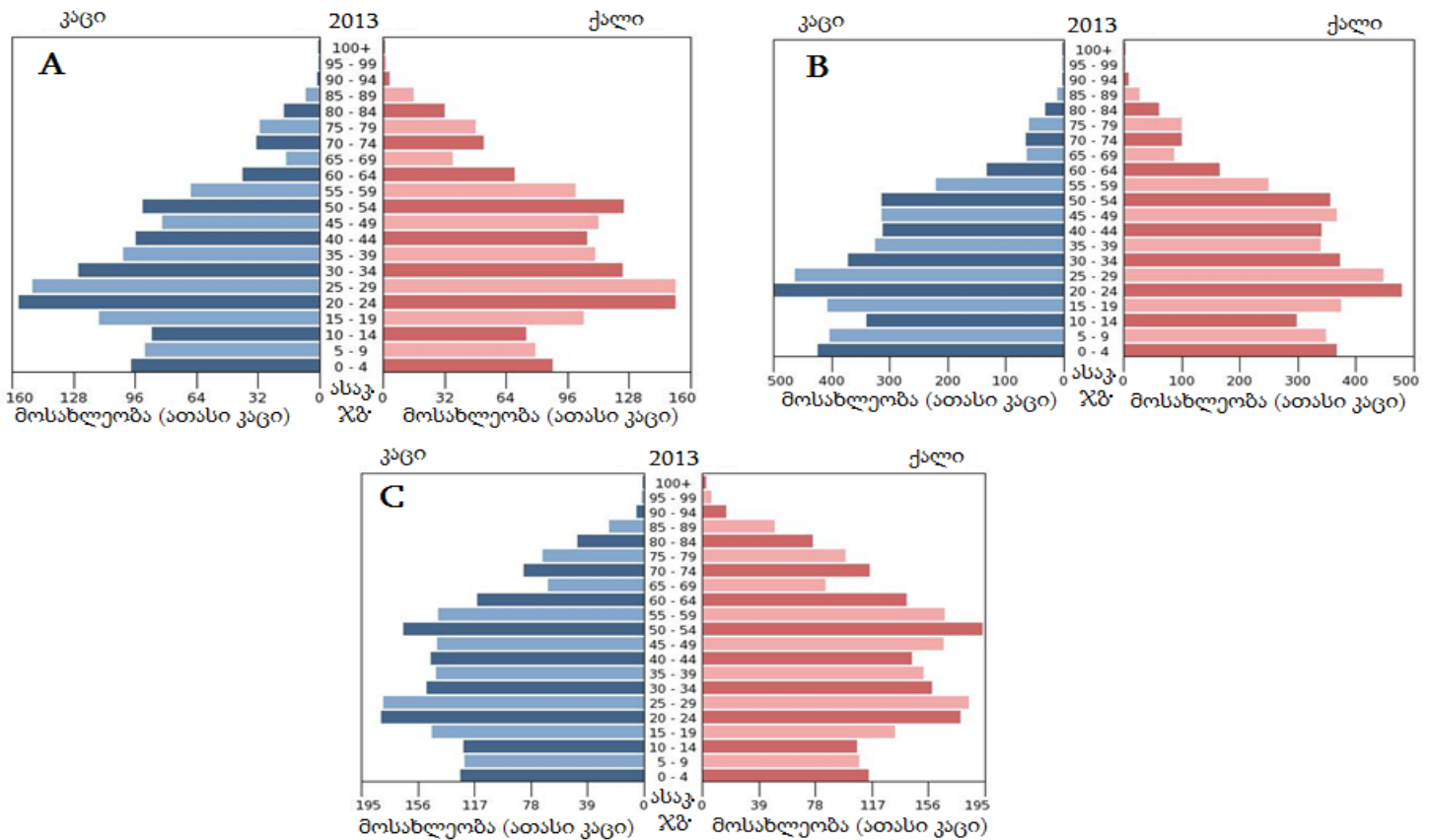
Структура занятости

	Кол-во занятого населения (миллион человек)	Процентное распределение занятости населения по секторам экономики		
		Сельское хозяйство	Промышленность	Сфера обслуживания
Грузия	1.96	55.6%	8.9%	35.5%
Армения	1.19	44.2%	16.8%	39%
Азербайджан	6.21	38.3%	12.1%	49.6%

Другие показатели

	Показатели бюджета (миллиард долларов США)		Показатели экспорта- импорта (миллиард долларов США)		Население (миллион человек)	Население города (миллион человек)
	Доход	Расход	Экспорт	Импорт		
Грузия	4.1	4.8	3.32	6.62	4.56	2.41
Армения	2.2	2.53	1.5	3.27	2.97	1.9
Азербайджан	23.25	25.55	30.58	10.78	9.59	4.98

33.1 (2) Какая из демографических (половозрастных) пирамид относится к структуре населения Азербайджана, а какая – к структуре населения Армении?



33.2. (1) Объясните, на основании какого показателя можно установить, что роль сельского хозяйства в экономике Грузии меньше, чем в экономике Армении?

33.3. (1) Объясните, основываясь на каких двух показателях, можно установить, что роль сельского хозяйства для экономики Армении более эффективна, чем для экономики Грузии?

33.4. (1) Расположите данные государства согласно показателю роста ВВП на душу населения. (От низкого показателя к высокому.)

33.5. (2) В каком из государств выше доля занятого населения, и чему равен этот показатель? (Обязательно покажите процесс вычисления.)

33.6. (2) В каком из государств выше уровень урбанизации, и чему равен этот показатель? (Обязательно покажите процесс вычисления.)

- **Анализ текста**

Инструкция

Внимательно изучите данный в задании текст и ответьте на вопросы. Ответы запишите в соответствующем месте, выделенном в листе ответов. Количество баллов определяется по конкретному заданию.

34. (9) Ознакомьтесь с текстом и ответьте на вопросы.

Климат Черноморского побережья Грузии – влажный субтропический. Его прибрежная полоса считается самым спокойным регионом Чёрного моря. Несмотря на это, приблизительно один раз в 20 лет повторяется ураган (сильный ветер), скорость которого превышает 47 м/сек. Эти ветры дуют, в основном, с моря и вызывают сильное волнение. Во время урагана уровень воды на побережье может подняться на 0,8 метра, а в устьях рек – в 2-3 раза больше. Повышение уровня Чёрного моря представляет особую опасность в окрестностях устья реки Риони.

На Черноморском побережье хорошо развито цитрусоводство. С 30-х годов прошлого века особо большого объёма достигло производство чая, которое стало одной из отраслей специализации сельского хозяйства Грузии. Производство чая почти полностью удовлетворяло потребности бывшего Советского Союза, а часть продукции шла на экспорт. На сегодняшний день в стране производство цитрусов уменьшилось в 8 раз, а чая – в 20 раз.

Несмотря на то, что в других странах мира экономически более выгодно производство апельсинов и лимонов, в Грузии среди цитрусовых культур преобладают мандарины. Они отличаются относительно высокой морозостойчивостью.

Ученые предполагают, что к 2050 году в Черноморской прибрежной зоне возможно повышение средней температуры воздуха на 1,2° и уменьшение количества осадков на 8-10%. По их мнению, эти изменения окажут значительное влияние на социальное и экономическое положение Черноморского побережья Грузии.

Вопросы:

34.1. (1) Объясните, как подействуют ожидаемые изменения климатических параметров на рекреационно-туристический сектор этого региона Грузии?

34.2. (1) Объясните причину, по которой показатель производства апельсинов и лимонов в Грузии ниже, чем мандаринов?

34.3 (1) Какое влияние может оказать повышение температуры на производство цитрусов в вышеназванном регионе? Ответ обоснуйте.

34.4. (1) Объясните, почему во время сильного урагана уровень воды больше повышается в устьях рек, чем на побережье?

34.5. (1) Объясните, предположительно, какое влияние на экологию Черноморского побережья окажут ожидаемые изменения климата ?

34.6. (1) Исходя из текста, какой город больше пострадает при повышении уровня Чёрного моря?

34.7. (1) Что, в основном, обусловило сокращение производства цитрусов и чая в Грузии?

34.8. (2) Какие регионы включает описанная в тексте зона?

задание #	География Абитуриенты Ответы I вариант Максимальный балл -70	балл														
1	в	1														
2	б	1														
3	г	1														
4	б	1														
5	в	1														
6	б	1														
7	в	1														
8	в	1														
9	б	1														
10	а	1														
11	а	1														
12	а	1														
13	б	1														
14	а	1														
15	г	1														
16	б	1														
17	а	1														
18	а	1														
19	а	1														
20	г	1														
21	а	1														
22	а	1														
23	а	1														
24	в	1														
25	<p><u>Схема оценкб:</u></p> <ul style="list-style-type: none"> • 0, 1 или 2 установленных соответствия - 0 баллов; • 3, 4 или 5 установленных соответствия - 1 балл; • 6 или 7 установленных соответствия - 2 балла. <table border="1" style="margin-left: auto; margin-right: auto;"> <thead> <tr><th>а.</th><th>б.</th><th>в.</th><th>г.</th><th>д.</th><th>е.</th><th>ж.</th></tr> </thead> <tbody> <tr><td>1</td><td>2</td><td>4</td><td>3</td><td>1</td><td>4</td><td>1</td></tr> </tbody> </table>	а.	б.	в.	г.	д.	е.	ж.	1	2	4	3	1	4	1	2
а.	б.	в.	г.	д.	е.	ж.										
1	2	4	3	1	4	1										
26	<table border="1" style="margin-left: auto; margin-right: auto;"> <thead> <tr><th>а.</th><th>б.</th><th>в.</th><th>г.</th><th>д.</th><th>е.</th><th>ж.</th></tr> </thead> <tbody> <tr><td>1</td><td>3</td><td>4</td><td>1</td><td>3</td><td>2</td><td>4</td></tr> </tbody> </table>	а.	б.	в.	г.	д.	е.	ж.	1	3	4	1	3	2	4	2
а.	б.	в.	г.	д.	е.	ж.										
1	3	4	1	3	2	4										

задание #	<p style="text-align: center;">География Абитуриенты Ответы I вариант Максимальный балл -70</p>	балл																						
27	<table border="1" style="margin-left: auto; margin-right: auto;"> <tr> <td>а.</td><td>б.</td><td>в.</td><td>г.</td><td>д.</td><td>е.</td><td>ж.</td> </tr> <tr> <td>4</td><td>3</td><td>1</td><td>2</td><td>3</td><td>2</td><td>4</td> </tr> </table>	а.	б.	в.	г.	д.	е.	ж.	4	3	1	2	3	2	4	2								
а.	б.	в.	г.	д.	е.	ж.																		
4	3	1	2	3	2	4																		
28	<table border="1" style="margin-left: auto; margin-right: auto;"> <tr> <td>а.</td><td>б.</td><td>в.</td><td>г.</td><td>д.</td><td>е.</td><td>ж.</td> </tr> <tr> <td>3</td><td>1</td><td>4</td><td>2</td><td>1</td><td>5</td><td>5</td> </tr> </table>	а.	б.	в.	г.	д.	е.	ж.	3	1	4	2	1	5	5	2								
а.	б.	в.	г.	д.	е.	ж.																		
3	1	4	2	1	5	5																		
29	<table border="1" style="margin-left: auto; margin-right: auto;"> <tr> <td>а.</td><td>б.</td><td>в.</td><td>г.</td><td>д.</td><td>е.</td><td>ж.</td> </tr> <tr> <td>3</td><td>2</td><td>2</td><td>1</td><td>4</td><td>1</td><td>4</td> </tr> </table>	а.	б.	в.	г.	д.	е.	ж.	3	2	2	1	4	1	4	2								
а.	б.	в.	г.	д.	е.	ж.																		
3	2	2	1	4	1	4																		
30	<table border="1" style="margin-left: auto; margin-right: auto;"> <tr> <td>а.</td><td>б.</td><td>в.</td><td>г.</td><td>д.</td><td>е.</td><td>ж.</td> </tr> <tr> <td>2</td><td>1</td><td>3</td><td>1</td><td>4</td><td>2</td><td>3</td> </tr> </table>	а.	б.	в.	г.	д.	е.	ж.	2	1	3	1	4	2	3	2								
а.	б.	в.	г.	д.	е.	ж.																		
2	1	3	1	4	2	3																		
31	<p><u>Схема оценки:</u></p> <ul style="list-style-type: none"> • неправильный ответ оценивается - 0 б.; • правильный ответ вместе с неправильным ответом оценивается - 0 б.; • каждый правильный ответ оценивается – 1 б. <table border="1" style="margin-left: auto; margin-right: auto;"> <thead> <tr> <th>#</th> <th>номер круга</th> </tr> </thead> <tbody> <tr><td>31.1.</td><td>13</td></tr> <tr><td>31.2.</td><td>4</td></tr> <tr><td>31.3.</td><td>3</td></tr> <tr><td>31.4.</td><td>14</td></tr> <tr><td>31.5.</td><td>10</td></tr> <tr><td>31.6.</td><td>2</td></tr> <tr><td>31.7.</td><td>5</td></tr> <tr><td>31.8.</td><td>11</td></tr> <tr><td>31.9.</td><td>7</td></tr> <tr><td>31.10.</td><td>12</td></tr> </tbody> </table>	#	номер круга	31.1.	13	31.2.	4	31.3.	3	31.4.	14	31.5.	10	31.6.	2	31.7.	5	31.8.	11	31.9.	7	31.10.	12	10
#	номер круга																							
31.1.	13																							
31.2.	4																							
31.3.	3																							
31.4.	14																							
31.5.	10																							
31.6.	2																							
31.7.	5																							
31.8.	11																							
31.9.	7																							
31.10.	12																							
32.1	в	1																						
32.2	г	1																						
32.3	<p><u>Схема оценки:</u></p> <ul style="list-style-type: none"> • неправильный или правильный ответ без обоснования - 0 б.; • правильно обоснованный ответ - 1 б. 	1																						

задание #	<p style="text-align: center;">География Абитуриенты Ответы I вариант Максимальный балл -70</p>	балл
32.4	<p><u>Схема оценки:</u></p> <ul style="list-style-type: none"> • неправильный ответ - 0 б; • одна правильно названная причина - 1 б. <p>суммарный балл задания - 3.</p>	3
33.1.	<p><u>Схема оценки:</u></p> <ul style="list-style-type: none"> • неправильно названное государство- 0 б; • одно правильно названное государство - 1 б; • два правильно названных государства - 2 б. <p><u>образец правильного ответа:</u></p> <ul style="list-style-type: none"> • А демографическая пирамида соответствует Армении – 1 б; • В демографическая пирамида соответствует Азербайджану - 1 б. 	2
33.2.	<p><u>Схема оценки:</u></p> <ul style="list-style-type: none"> • неадекватное объяснение - 0 б; • соответственное объяснение - 1 б. 	1
33.3.	<p><u>Схема оценки:</u></p> <ul style="list-style-type: none"> • неадекватное объяснение - 0 б; • соответственное объяснение – 1 б. 	1
33.4.	<p><u>Схема оценки:</u></p> <ul style="list-style-type: none"> • неправильно показанная последовательность - 0 б; • правильно показанная последовательность – 1 б. <p><u>образец правильного ответа:</u></p> <p>Грузия < Армения < Азербайджан.</p>	1
33.5.	<p><u>Схема оценки:</u></p> <ul style="list-style-type: none"> • неправильно названное государство – 0 б; • только правильно названное государство -1 б; • правильно названное государство и правильно показанный процесс вычисления – 2 б. <p><u>образец правильного ответа:</u></p> <ul style="list-style-type: none"> • в Азербайджане – 1 б; • $6,21 \cdot 100 / 9,59 = 64,7\%$ - 1 б. 	2
33.6.	<p><u>Схема оценки:</u></p> <ul style="list-style-type: none"> • неправильно названное государство – 0 б; • только правильно названное государство - 1 б; • правильно названное государство и правильно показанный процесс вычисления - 2 б. <p><u>образец правильного ответа:</u></p> <ul style="list-style-type: none"> • в Армении - 1 б; • $1,9 \cdot 100 / 2,97 = 63,9\%$ - 1 б. 	2
34.1.	<p><u>Схема оценки:</u></p> <ul style="list-style-type: none"> • неадекватное объяснение - 0 б; • адекватное объяснение - 1 б. 	1
34.2.	<p><u>Схема оценки:</u></p> <ul style="list-style-type: none"> • неадекватное объяснение - 0 б; • адекватное объяснение - 1 б. 	1

задание #	<p style="text-align: center;">География Абитуриенты Ответы I вариант Максимальный балл -70</p>	балл
34.3.	<p><u>Схема оценки:</u></p> <ul style="list-style-type: none"> • неадекватное обоснование – 0 б; • адекватное обоснование - 1 б. 	1
34.4.	<p><u>Схема оценки:</u></p> <ul style="list-style-type: none"> • неадекватное объяснение – 0 б; • адекватное объяснение – 1 б. 	1
34.5.	<p><u>Схема оценки:</u></p> <ul style="list-style-type: none"> • неадекватное объяснение - 0 б; • адекватное объяснение - 1 б. 	1
34.6	<p><u>Схема оценки:</u></p> <ul style="list-style-type: none"> • неправильно названный город - 0 б; • правильно названный город - 1 б; <p><u>образец правильного ответа:</u> Город Поти.</p>	1
34.7.	<p><u>Схема оценки:</u></p> <ul style="list-style-type: none"> • неправильно названная причина - 0 б; • правильно названная причина - 1 б. 	1
34.8.	<p><u>Схема оценки:</u></p> <ul style="list-style-type: none"> • Ответ, который содержит хоть одно неправильное название региона - 0 б; • Ответ, который содержит только два или три правильных названия региона и не содержит неправильный ответ - 1 б; • Ответ, который содержит правильно названные четыре региона - 2 б. 	2