



შეფასებისა და გაუმჯობესების  
ეროვნული ცენტრი

# Тест по Гражданскому образованию

## Инструкция

Перед Вами электронный буклет экзаменационного теста.

В тесте даны 30 заданий разных типов. Внимательно ознакомьтесь с инструкциями к заданиям, хорошо осмыслите условие каждого задания, а затем дайте ответ.

**Максимальный балл теста – 60**

**Время выполнения теста – 3 часа 10 минут**

**Желаем успехов!**



## Инструкция

### Задания с выборочными ответами (№1-24, 30.1-30.2)

За каждым вопросом следует четыре возможных ответа. Из них лишь один – правильный. В листе ответов, в клетке, соответствующей правильному ответу, поставьте знак **X**. Если Вы хотите исправить отмеченный ответ, полностью закрасьте клетку, где поставили знак **X**, а затем отметьте новый вариант ответа. Выбрать вновь исправленный ответ Вы не сможете.

Каждое задание оценивается в 1 балл.

**1. Как называются правила поведения, которых придерживаются члены социальной группы?**

А. Стигма

Б. Норма

В. Стереотип

Г. Ценность

**2. Как называется относительно большая группа людей, которая образуется в ограниченном физическом пространстве спонтанно, часто на короткое время и определяется сходным эмоционально-психологическим настроем участников?**

А. Толпа

Б. Хор

В. Общество

Г. Профсоюз

### 3. Какое суждение отображает правильно понятия - пол и гендер?

А. Пол обозначает разную роль мужчины и женщины в семейной деятельности, а гендер – их роль в общественной жизни.

Б. Понятие гендера указывает на различные социальные функции женщины и мужчины в конкретном времени и пространстве, а пол – на биологическое различие между ними.

В. Пол обозначает различные роли мужчины и женщины в социокультурном пространстве, а гендер указывает на их биологическую идентичность.

Г. В понятии гендер снято всякое различие между женщиной и мужчиной, а пол, наоборот, обозначает их различие.

**4. Каким является государство, которое разделено на более или менее независимые государственные единицы?**

А. Унитарным

Б. Пропорциональным

В. Федерационным

Г. Коалиционным

**5. Как называется инвестирование капитала при экономической деятельности, с целью улучшения производства и увеличения повышения доходов?**

А. Прибыль

Б. Инвестиция

В. Субсидия

Г. Налог

**6. Схема отображает виды подоходного налога. Что из перечисленного соответствует пустой графе схемы?**

Пропорциональный налог

Прогрессивный налог

?

А. Регрессивный налог

Б. Налог на прибыль

В. Пенсионный налог

Г. Налог на добавленную  
стоимость



**7. Что в условиях свободной конкуренции будет результатом роста на рынке количества какого-либо конкретного продукта?**

А. Повышение качества этого продукта

Б. Снижение качества другой продукции

В. Падение цены на эту продукцию

Г. Повышение цены на эту продукцию

**8. Как называется способствование интеграции осужденного в обществе?**

А. Реанимация

Б. Рекреация

В. Реализация

Г. Ресоциализация

**9. Согласно законодательству Грузии, гражданин Грузии лишается гражданства, если:**

А. вступает в брак с гражданином/гражданкой другой страны.

Б. ведет бизнес в чужой стране.

В. самовольно поступит на военную службу в чужом государстве.

Г. систематически нарушает законодательство Грузии.

**10. Какое из суждений о гражданском участии является правильным?**

- А. Управление государством – дело политиков и рядовые граждане не участвуют в этом процессе.
- Б. Включение в процесс принятия решения возможно лишь путем участия в выборах.
- В. Для участия в управлении государством необходимо членство в какой-либо партии.
- Г. Включение различных социальных групп в процесс рассмотрения проблемы повышает легитимацию решения правящих.

**11. Какое из суждений о Конституции не является правомерным?**

А. Конституция имеет высшую юридическую силу.

Б. Конституция принимается от имени народа, она признана народом.

В. Смена Конституции возможна большинством голосов парламента.

Г. Для внесения в парламент проекта об изменении Конституции необходима подпись не менее 200 000 избирателей.

**12. Как называется прибыль, выигрыш или стоимость, от чего мы должны отказаться взамен на получение или приобретение чего-либо другого?**

А. Себестоимость

Б. Рыночная стоимость

В. Абсолютная стоимость

Г. Альтернативная стоимость

**13. Какая структурная единица не действует в офисе народного защитника?**

А. Центр толерантности

Б. Центр по защите государственных служащих

В. Центр по защите прав женщины и ребенка

Г. Департамент по защите прав лиц с ограниченными возможностями

**14. Социальная справедливость, защита экосистемы и разумное использование экономических ресурсов – это компоненты, на гармоничную взаимосвязь которых опирается концепция так называемого \_\_\_\_\_ развития.**

А. устойчивого

Б. гражданского

В. глобального

Г. стратегического



**15. Стратегическое планирование начинается с анализа ситуации, одно из основных направлений которого - анализ \_\_\_\_\_ , а другое – оценка своих сильных и слабых сторон.**

А. стратегических рамок

Б. уникальных ресурсов

В. индикаторов

Г. окружающей среды

**16.** Какое явление описано на данной иллюстрации?



А. Траффикинг

Б. Незаконное заключение

В. Свобода передвижения

Г. Свобода экономической деятельности

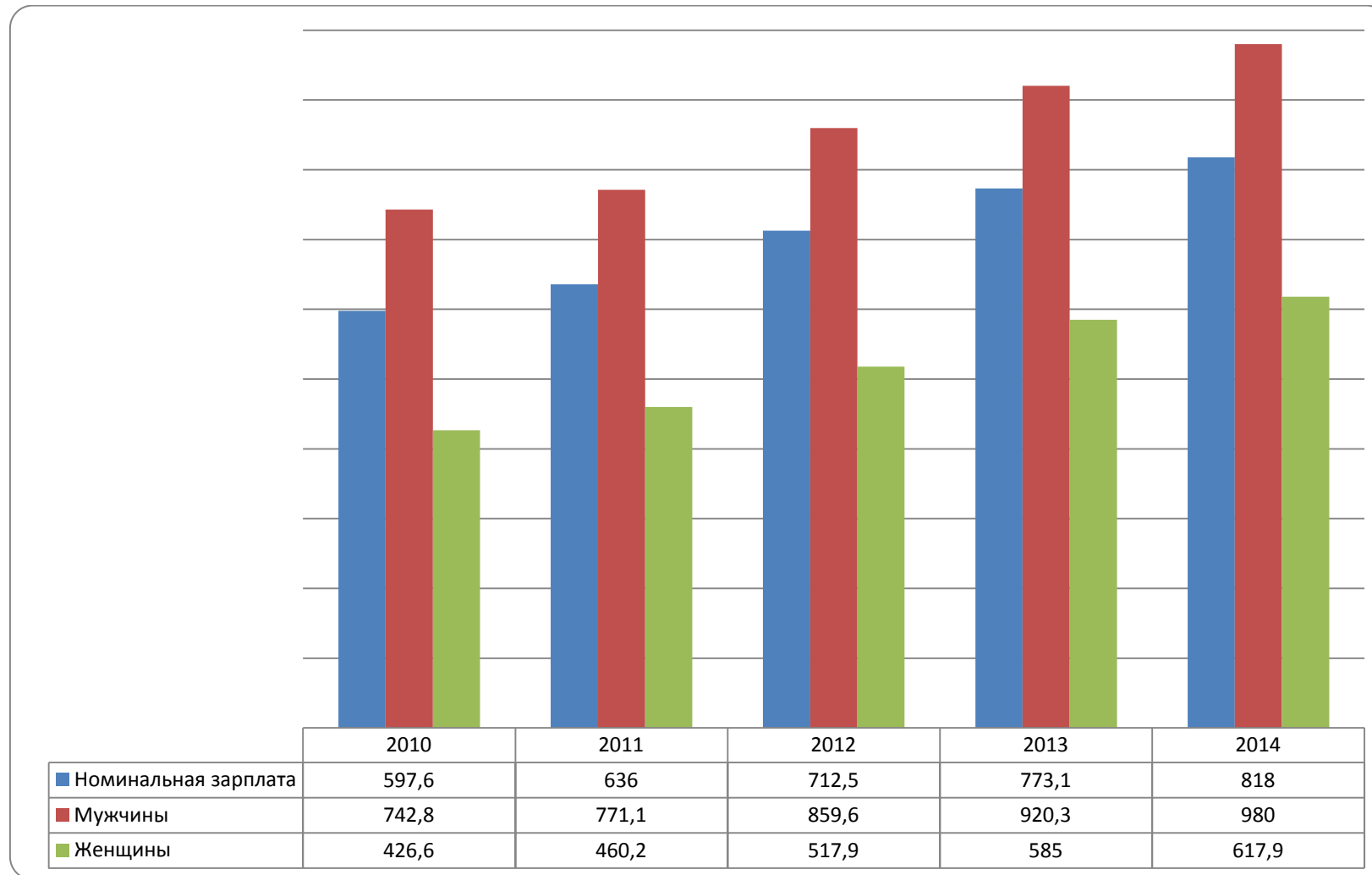
**17. Ознакомьтесь с ситуацией и ответьте на данный ниже вопрос.**

Информационное агентство распространяет информацию под заголовком: «Задержана группа преступников». В статье автор описывает детали ограбления, которое произошло в тот день в одной из микрофинансовых компаний и называет имена и фамилии лиц, задержанных оперативной следственной службой Министерства внутренних дел. Адвокат одного из помещенных в изолятор предварительного заключения лица распространяет заявление о нарушении информационным агентством фундаментальных прав своего подзащитного.

**Исходя из описанной ситуации скажите, какое право задержанного лица было нарушено?**

- А. Презумпция невиновности человека
- Б. Право обвиняемого хранить молчание
- В. Право на физическую неприкосновенность
- Г. Право на справедливый суд

**18. На диаграмме дана средняя номинальная зарплата (в лари) работающих по найму в 2000-2014 годах в Грузии:**



**Какое суждение соответствует данным диаграммы?**

А. В 2010-2014 г.г. в Грузии, несмотря на рост номинальной зарплаты, номинальная зарплата женщин не выросла.

Б. В 2010-2014 г.г номинальная зарплата женщин всегда была ниже номинальной зарплаты в Грузии.

В. В 2010-2014 г.г рост номинальной зарплаты в Грузии обуславливался лишь ростом номинальной зарплаты женщин.

Г. В 2010-2014 г.г росла номинальная зарплата мужчин, а номинальная зарплата женщин уменьшалась.

**19. Перед Вами некоторые данные исследования под названием «Отношение молодежи к процессу евроинтеграции», проведенного в 2015 году Фондом развития Медии:**

- Самой популярной среди молодежи Грузии социальной сетью является «Фейсбук», которым пользуется 88.9% молодежи, «Одноклассниками» пользуется 31.3%, а другими социальными сетями - 21.9%.
- «Фейсбуком» пользуется 91,5% молодежи в Тбилиси и 90,8% интернет-потребителей в других городах. В плотно населенных этническими меньшинствами городах молодежь пользуется «Фейсбуком» меньше (74,5%).
- «Одноклассниками» пользуется 25% тбилисской молодежи-потребителей Интернета, 33,9% молодежи, живущих в других городах Грузии и 49,7% молодежи плотно населенных этническими меньшинствами.

**Какой из выводов правомерен на основании вышеуказанных данных?**

А. 88,9% молодежи пользуется только «Фейсбуком».

Б. В городах, густонаселенных этническими меньшинствами, «Одноклассники» менее популярен, чем в Тбилиси.

В. В городах, густонаселенных этническими меньшинствами, молодежь отдает предпочтение «Одноклассникам» по сравнению с «Фейсбуком».

Г. «Фейсбук» имеет преимущество по сравнению с «Одноклассниками» как в Тбилиси, так и в регионах. Хотя в регионах, особенно в компактно заселенных национальными меньшинствами местах, «Одноклассники» занимают значительный сегмент.

**20. Внимательно ознакомьтесь с выдержкой из статьи и ответьте на вопрос:**

Согласно резолюции Европарламента, газопровод «Южный поток» (прямо из России в Евросоюз) не должен быть построен. Европейцы назвали приоритетными конкурирующие с российским проектом газопроводы «Набуко вест» (по которому осуществляется поставка газа в Европу из Туркмении, Ирана и Азербайджана через Грузию и Турцию) и Трансадриатический трубопровод.

«Набуко» для Евросоюза является более желательным, чем «Южный поток», поскольку он дешевле и, соответственно, его можно построить быстрее. Кроме того, этот газопровод уменьшит энергозависимость Евросоюза от России, что на сегодняшний день очень важно для Европы.

Отрицательной стороной «Набуко» можно назвать то, что в этом проекте участвует несколько поставщиков и транзитных стран, из-за чего сейчас европейцам придется находить общие интересы не только с одной, а с несколькими странами.



**Исходя из текста, какое суждение правомерно?**

- А. Отрицательная сторона «Южного потока» заключается в малом количестве стран, участвующих в проекте.
- Б. Газопровод «Набуко» уменьшит зависимость европейцев от российских энергоносителей.
- В. Посредством газопровода «Набуко» европейцы получают больше газа.
- Г. Строительство «Южного потока» экономически более выгодно, так как газопровод пройдет только через Россию.

**21. Ознакомьтесь с текстом и ответьте на вопрос:**

„Да, наша страна, наш народ понял, что протягивать руки к Господу, молиться и молить Господа хорошо, однако сам Господь любит человека трудолюбивого, щедрого и такому помогает, к такому человеку Он милостив. Он понял что, у застолья этого мира есть место лишь для того, кто надеется на свою собственную бодрость, на свою собственную десницу, надеется на свои силы, борется за существование и почетное место в этой жизни. Если сам я не гожусь для своей страны, для себя, то чужой и подавно- мысль эта стала заметна скорее в прошлом году, чем когда-либо ранее».

**Илья Чавчавадзе «Внутренний обзор», 1892 год**

**Какое суждение, исходя из текста, является правильным?**

А. Если человек имеет веру, он многого достигнет в жизни.

Б. Залогом успеха человека является его собственный труд.

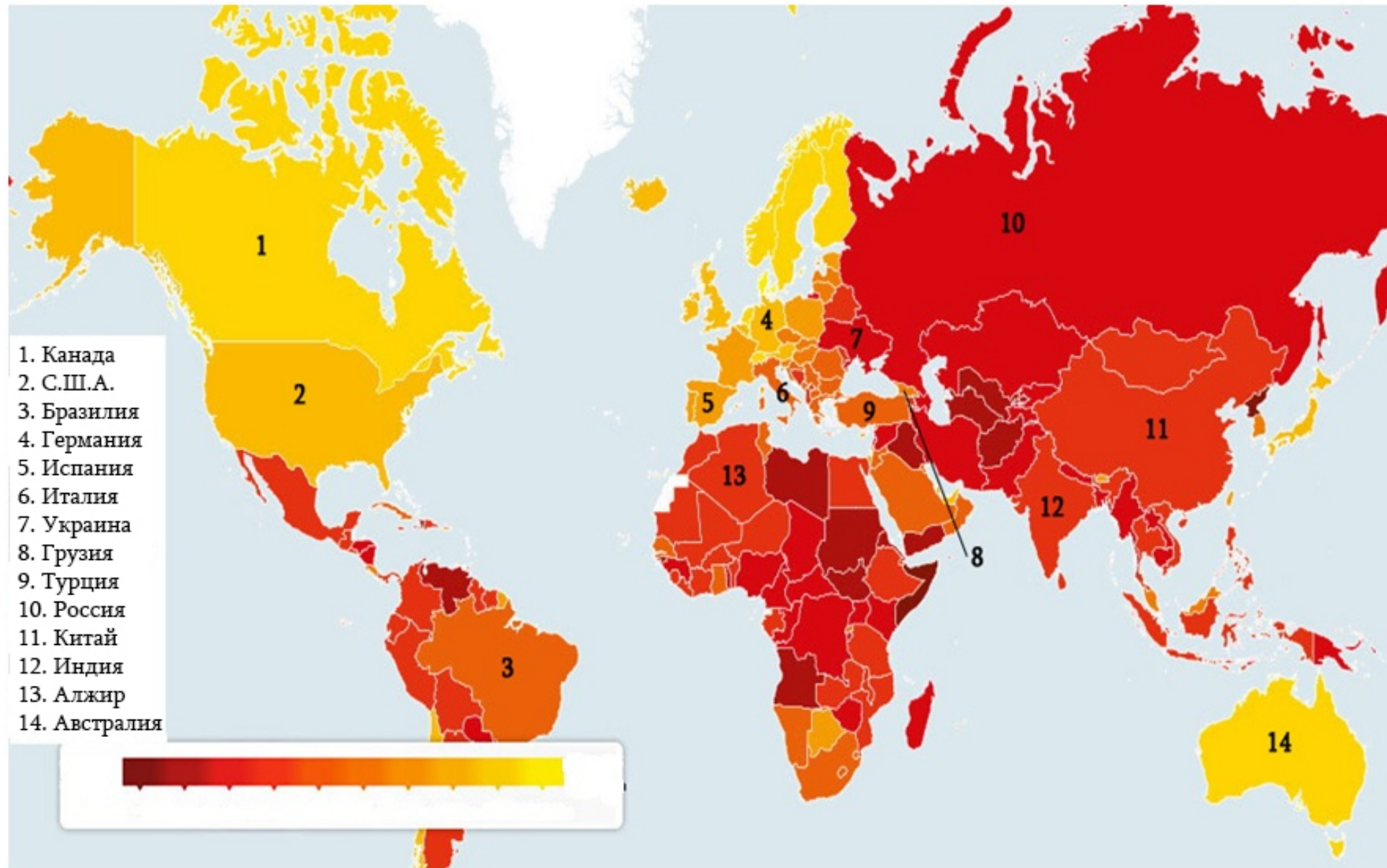
В. Общий успех достигается лишь единством граждан.

Г. Человек не достигнет счастья, если его сограждане не будут успешными.

## Инструкция

### Анализ карты (№22-24)

В задании дана карта, отражающая уровень распространения коррупции в странах мира (2015 г.), за ней следуют три вопроса с выборочными ответами. На основании анализа карты ответьте на вопросы.



**22. Исходя из данных карты, уровень коррупции:**

А. В Канаде более высок, чем в США.

Б. В России более низок, чем в Бразилии.

В. В Украине более высок, чем в Грузии.

Г. В Австралии более высок, чем в Китае.

**23.** Исходя из данных карты, в каком перечне страны расположены по росту уровня коррупции?

А. Бразилия, Индия, Канада .

Б. Австралия, Турция, Алжир.

В. Россия, США, Китай.

Г. Украина, Испания, Италия.

**24. Исходя из данных карты, какое суждение правомерно?**

А. В Европе уровень коррупции выше, чем в Азии.

Б. В странах Латинской Америки уровень коррупции выше, чем в Западной Европе.

В. Уровень коррупции в республиках Закавказья ниже, чем в республиках Прибалтики.

Г. В Скандинавских странах уровень коррупции выше, чем в странах Восточной Европы.



## Инструкция

### Установление соответствия (№25)

В задании в два столбика даны перечни разного типа. Установите соответствие между информацией, представленной в этих двух столбиках. Ответы запишите в таблицу на листе ответов. Максимальная оценка теста – 2 балла.

**25. Установите соответствие между основными принципами выборов и их определениями:**

<b>I. Дефиниция основных принципов выборов</b>	<b>II. Основные принципы выборов</b>
<p>А. Право голоса должны иметь граждане соответствующего возраста, удовлетворяющие условия регистрации. Для проведения выборов не происходит выделение какого-либо конкретного социума.</p>	<p><b>1. Скрытый</b></p> <p><b>2. Прямой</b></p> <p><b>3. Всеобщий</b></p> <p><b>4. Равноправный</b></p> <p><b>5. Подотчетный</b></p>
<p>Б. Граждане голосуют непосредственно за кандидатов. Непосредственное право избирателя – проголосовать за желаемого кандидата или быть избранным в выборочный орган или на избираемую должность.</p>	
<p>В. Все голоса должны иметь равную силу, без какого-либо преимущества или ограничения.</p>	
<p>Г. Воля и желание граждан защищены и неприкосновенны. Недопустимы надзор над процессом голосования и/или присутствие при этом других граждан.</p>	

## Инструкция

### Исправление ошибок (№26)

В задании дан текст, в котором допущены фактические ошибки (дата, термин, имя и др.). Найдите и исправьте их. Найденную ошибку и ее исправленный вариант запишите в таблицу на листе ответов. Учтите, что каждая найденная ошибка с ее исправленным вариантом оценивается в 1 балл. Максимальная оценка задания – 11 баллов.

**Задание N26. Внимательно прочитайте текст, найдите и исправьте ошибки.**

### Судебная система

Для того, чтобы государственная власть не злоупотреблялась одной личностью или командой для достижения своих корыстных целей, на протяжении истории сформировался механизм разделения этой власти. Этот механизм подразумевает централизацию государственной власти, т.е. ее разделение по ветвям власти. Эти ветви – исполнительная, судебная и законодательная власть. Они независимы друг от друга, хотя это не означает их абсолютного разграничения. Например, закон, принятый парламентом, может быть отменен Министерством юстиции. Таким образом, эти ветви балансируют друг друга, что обеспечивает более эффективную работу государства.

Согласно закону, в общих судах судьей может быть назначен (избран) гражданин Грузии, которому уже исполнилось 21 лет. У него должно быть высшее экономическое образование. Со своей стороны, судью назначает и освобождает прокуратура Грузии. Сам судья, который непосредственно выносит приговор, независим в своей деятельности. Он принимает решение в соответствии с Конституцией Грузии, общепризнанными международными нормами и другими законами. В общих судах все дела, за исключением некоторых, рассматриваются на закрытых заседаниях.

Процедура суда такова: после того, как суд первой инстанции рассмотрит аргументы истца и ответчика, выносит решение: иск или постановление. Правда, в случае неудовлетворения, стороны имеют право обжалования решения суда в верховный суд. Таким образом, увеличивается возможность установления справедливости и удовлетворения сторон.

[Переход ко второй странице текста](#)

Для максимальной включенности граждан в судебную власть был введен институт присяжных заседателей. Согласно действующему законодательству присяжные рассматривают уголовные дела, предусмотренные только статьей 109 гражданского кодекса (преднамеренное убийство при отягчающих обстоятельствах). При выборе присяжных должны быть учтены специальные критерии. Например, присяжный заседатель сам должен быть избирателем, владеть языком процесса и др. Кроме того, присяжным заседателем не может стать юрист, полицейский, подсудимый или духовное лицо.

В отличие от общих судов юриспруденции, конституционный суд рассматривает соответствие закона и других типов нормативных фактов с Конституцией страны. Он также рассматривает вопрос о том, насколько конституционным является мораторий, который считается выражением воли граждан и одним из инструментов прямой демократии.

[\*Возврат к первой странице текста\*](#)

## Инструкция

### Школьный проект (N27)

В задании дан набросок проекта (описана проблема и определена цель проекта). Запишите две разные задачи и пути их решения. Учтите, задачи должны соответствовать описанной проблеме и цели проекта. Максимальное количество баллов - 4.

## Задание N 27

### Описание проблемы/Анализ ситуации:

В 2018 году в Грузии отмечается столетие основания первой демократической республики. К сожалению, община школы не очень хорошо знакома с историей республики 1918-1921 годов и с ее значением для грузинской государственности.

### Цель проекта:

Цель проекта – способствовать осмыслению значения суверенитета Грузии и формирование соответствующего настроения и отношения.

*Задачи (Напишите конкретные направления для достижения намеченных проектом целей.)*

**I Задача:**

**II Задача:**

*Пути решения (Напишите конкретные шаги, активности для решения поставленных задач)*

**Путь решения задачи I:**

**Путь решения задачи II:**

## Инструкция

### Анализ иллюстрации (N28)

Внимательно изучите данную в задании иллюстрацию. Проанализируйте ее и ответьте на вопросы. Вопросы запишите на листе ответов в соответствующем месте. Максимальный балл задания – 4.



## Задание N28.

"А щас начнется ваш любимый сериал..."

Выборы  
Бюджет  
Гражданство  
Голос  
Политика

**28.1** Кого изображает сидящий в кресле человек?

**28.2** Какова главная мысль иллюстрации?

**28.3** Рассуждайте, какой результат может быть у явления, показанного на иллюстрации, и как можно избежать этого результата?

## Инструкция

### Аргументированное суждение (N29)

Ознакомьтесь с темой дискуссии и назовите аргументы. Учтите, каждый аргумент должен быть носителем существенно независимой мысли, конкретной, ясно оформленной и завершённой. Ответы напишите в соответствующем месте на листе ответов. Максимальная оценка задания – 4 балла.

**Задание N 29**

Парламентские выборы проводятся с определенной периодичностью. Как правило, этот период ограничивается четырьмя или пятью годами. Избиратель на этот срок выбирает политическую партию, которой передает легитимное право управления страной, чтобы она решила стоящие перед обществом проблемы.

**29.1** Назовите два независимых друг от друга аргумента, почему период между выборами не является более длинным?

**29.2** Назовите два независимых друг от друга аргумента, почему период между выборами не является более коротким?

## Инструкция

### Анализ источника (N30)

В задании дано несколько источников, которые сопровождаются как с заданиями с выборочными ответами, так и вопросами открытого типа. Ознакомьтесь с данными источниками и ответьте на вопросы. Ответы запишите в соответствующем месте на листе ответов. Максимальная оценка задания – 11 баллов.

**Задание N 30****Источник N1**

„Наше вчерашнее общественное или гражданское устройство меняется сегодня так, завтра иначе. Пройдет какое-то время, для нас длинное или короткое, а для мироздания оно намного короче минуты, и то, что было вчера, год назад, что казалось нам устойчивым в прошлом веке, сегодня не видно и следа его.

Так, вчерашнее, прошлогоднее или несколько более давнее наше наставление, наше учение, руководство остались позади, мы беспрепятственно движемся вперед, и им за нами не угнаться.

На их место пришел новый порядок, новая сила, которая руководит теперь нами. Будто бы мы прозрели и так движемся вперед, что личное воспринимается нами через всеобщее, теперь мы внимательнее, зорче оглядываемся вокруг, идем вслед за мировым обществом, ощущая себя его частью.

Что же или кто в сегодняшнем нашем устройстве – наш предшественник, наш наставник, наш друг и наш сотрапезник?

Это – типография! Это печатание! На что мы способны сейчас без журнала, без газеты?

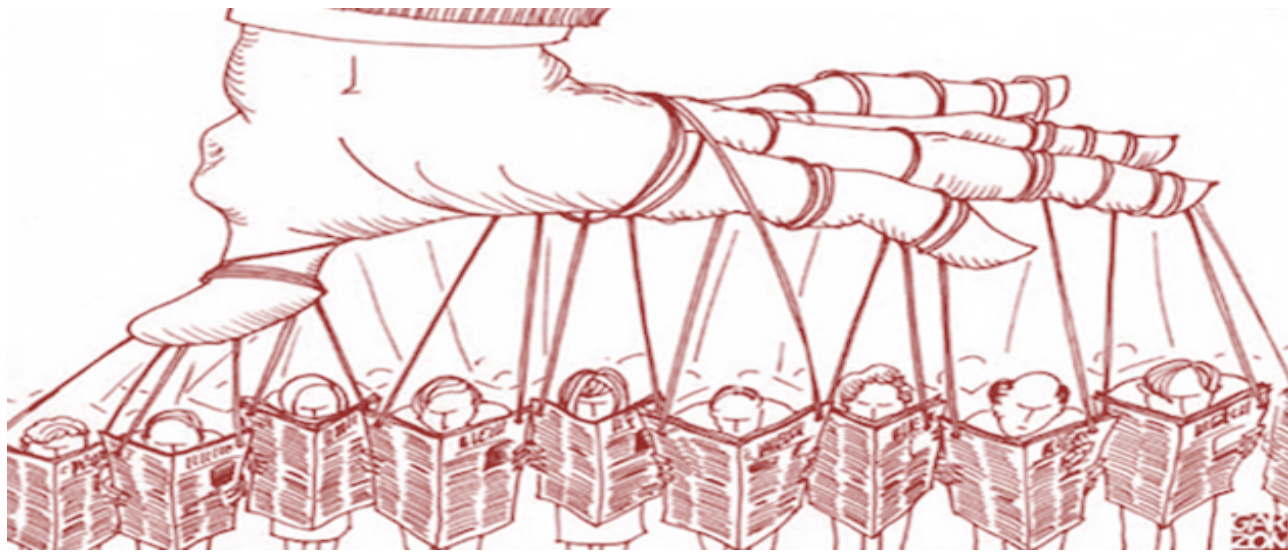
Дмитрий Кипиани, «К 10-летию «Дроэба», 1876 год

## Источник N2

Кто может изменить общественное мнение, практически может изменить и правительство.

Авраам Линкольн 1809-1865

## Источник N3



## Источник N4



*Переход к источникам : [N1](#)*

*Переход к заданиям: [30.2](#) [30.3-30.7](#)*

**30.1** Как Вы думаете, какое из перечисленных ниже понятий точнее описывает личность Дмитрия Кипиани?

А. Консерватор

Б. Ретроград

В. Прогрессист

Г. Либерал

Переход к источникам: [N1](#) [N3](#) [N4](#)

Переход к заданиям: [30.2](#); [30.3-30.7](#)

**30.2** Какое суждение соответствует мысли, высказанной Дмитрием Кипиани в письме  
(Источник N1)?

- А. Несмотря на перемены, человек должен суметь сохранить свои обычаи и традиции.
- Б. Любое время приносит свои блага и только их синтезом возможно двигаться вперед.
- В. Прошлое должно быть предано забвению, чтобы стало возможным внедрение новшеств и написание новых газетных статей.
- Г. У любого времени – свой ритм развития и локомотив современности – это газеты и журналы.



- 30.3** Благодаря каким положительным характеристикам Медиа может считаться катализатором прогресса? Назовите две положительные характеристики.
- 30.4** Рассуждайте, как связаны между собой и какова общая идея источников N3 и N4 ?
- 30.5** Как гражданин может защитить себя от проблем описанных в источниках N3 и N4?
- 30.6** Рассуждайте, насколько оправдана точка зрения, высказанная в источнике N2. Приведите пример, который закрепит Вашу позицию.
- 30.7** Насколько актуальна данная проблема для Грузии? Ответ обоснуйте.